

کد کنترل

381

A

خارج از کشور



381A



جمهوری اسلامی ایران  
وزارت علوم، تحقیقات و فناوری  
سازمان سنجش آموزش کشور

دکتر دانشگاه اصلاح شود مملکت اصلاح می‌شود  
امام خمینی (ره)

دفترچه شماره ۲

### آزمون اختصاصی

گروه آزمایشی علوم انسانی (ویژه علوم و معارف اسلامی)

آزمون سراسری ورودی دانشگاه‌های کشور - ۱۳۹۹

مدت پاسخ‌گویی: ۱۶۵ دقیقه

تعداد سؤال: ۱۸۰

ویژه نظام آموزشی ۳-۳-۹

عنوان مواد امتحانی آزمون اختصاصی گروه آزمایشی علوم انسانی، تعداد، شماره سؤالات و مدت پاسخ‌گویی

ردیف	مواد امتحانی	تعداد سؤال	از شماره	تا شماره	مدت پاسخ‌گویی
۱	ریاضی	۲۰	۱۰۱	۱۲۰	۲۵ دقیقه
۲	اقتصاد	۱۵	۱۲۱	۱۳۵	۱۰ دقیقه
۳	زبان و ادبیات فارسی	۳۰	۱۳۶	۱۶۵	۳۰ دقیقه
۴	زبان عربی	۲۰	۱۶۶	۱۸۵	۲۰ دقیقه
۵	تاریخ	۱۵	۱۸۶	۲۰۰	۲۵ دقیقه
۶	جغرافیا	۱۵	۲۰۱	۲۱۵	
۷	علوم اجتماعی	۲۰	۲۱۶	۲۳۵	۱۵ دقیقه
۸	فلسفه و منطق	۲۵	۲۳۶	۲۶۰	۲۵ دقیقه
۹	روان‌شناسی	۲۰	۲۶۱	۲۸۰	۱۵ دقیقه

سال ۱۳۹۹

حل پایه، تکثیر و انتشار سؤالات به هر روش (الکترونیکی و سا.پس) از برگزاری آزمون برای تمامی اشخاص حقیقی و حقوقی تنها با مجوز این سازمان مجاز می‌باشد و با متخلفین برابر مقررات رفتار می‌شود.

\* داوطلب گرامی، عدم درج مشخصات و امضاء در مندرجات جدول ذیل، به منزله عدم حضور شما در جلسه آزمون است.

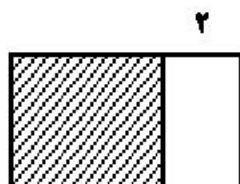
اینجانب..... با شماره داوطلبی..... با آگاهی کامل، یکسان بودن شماره سندلی خود را با شماره داوطلبی مندرج در بالای کارت ورود به جلسه، بالای پاسخنامه و دفترچه سؤالات، نوع و کد کنترل درج شده بر روی دفترچه سؤالات و پائین پاسخنامه را تأیید می‌نمایم.

امضاء:

۱۰۱- با فرض این که مخرج کسرها صفر نیستند، حاصل عبارت  $\frac{x+2}{x^2+x-2} - \frac{2x}{x^2-x}$  کدام است؟

(۱)  $\frac{1}{x+1}$  (۲)  $\frac{1}{x-1}$  (۳)  $\frac{x-2}{x-1}$  (۴)  $\frac{x-2}{x+1}$

۱۰۲- در شکل زیر، مساحت مربع از  $\frac{3}{4}$  مساحت مستطیل بزرگ‌تر، ۱۸ واحد مربع بیشتر است. محیط مستطیل بزرگ‌تر،



کدام است؟  
(۱) ۴۴ (۲) ۴۸ (۳) ۵۲ (۴) ۵۴

۱۰۳- قدرمطلق تفاضل ریشه‌های معادله  $\frac{x-3}{x-4} + \frac{1}{2x-2} = \frac{2}{3}$  کدام است؟

(۱) ۴ (۲) ۴/۵ (۳) ۵ (۴) ۵/۵

۱۰۴- توابع  $f$  و  $g$  مطابق جداول زیر، مفروض‌اند. برد تابع  $\frac{f+g}{f}$  کدام است؟

x	۵	۱	۳	۶
f	۳	۵	۴	۲

x	۳	۵	۱	۲
g	۲	۶	۲	۱

(۱)  $\{1/4, 1/5, 3\}$

(۲)  $\{1/5, 1/8, 3\}$

(۳)  $\{1, 1/4, 4\}$

(۴)  $\{1, 2/5, 4\}$

۱۰۵- نمودار  $y = \frac{|2x|}{x}$  و خط  $y = 2x - 1$  در دو نقطه A و B، مشترک‌اند. میانگین طول نقاط A و B، کدام است؟

(۱)  $-\frac{1}{2}$  (۲) صفر (۳)  $\frac{1}{2}$  (۴) ۱

محل انجام محاسبات

۱۰۶- اگر  $\log 5 - \log 2 = \log x + \log(x+1)$  باشد، مقدار  $\log_4(x-1)$  کدام است؟

- (۱)  $\frac{1}{4}$  (۲)  $\frac{1}{2}$  (۳)  $\frac{3}{2}$  (۴)  $\frac{2}{3}$

۱۰۷- در بسط عبارت  $(x^2 + 2x)^3$ ، ضریب  $x^2$  کدام است؟

- (۱) ۳ (۲) ۶ (۳) ۸ (۴) ۱۲

۱۰۸- یک کارگاه نوعی کالا تولید و هر واحد آن را ۲۴۰ ریال، می‌فروشد. اگر صاحب کارگاه در هر روز،  $x$  واحد کالا تولید

کرده و تابع هزینه آن  $C(x) = x^2 + 60x + 200$  باشد، بیشترین سود روزانه آن، کدام است؟

- (۱) ۵۶۰۰ (۲) ۶۱۰۰ (۳) ۷۹۰۰ (۴) ۸۱۰۰

۱۰۹- در تقسیم عبارت  $9 - 5x^2 - 2x^3$  بر  $x - 3$ ، مقدار چندجمله‌ای خارج قسمت، به ازای  $x = 3$ ، کدام است؟

- (۱) ۱۸ (۲) ۲۰ (۳) ۲۱ (۴) ۲۴

۱۱۰- از مبدأ مختصات خطی بر خط  $5 = x + 2y$ ، عمود می‌کنیم. طول نقطه برخورد این دو خط، کدام است؟

- (۱) ۲ (۲) ۱ (۳) -۱ (۴) -۲

۱۱۱- نمودار دایره‌ای زیر، نسبت نمرات مسئولیت‌پذیری ۸۰ نفر از کارکنان یک شرکت، در ۴ بازه مورد قبول را نشان می‌-

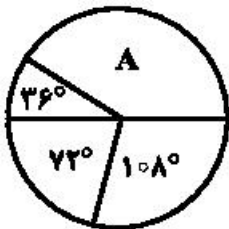
دهد. تعداد کارکنان در گروه A، کدام است؟

- (۱) ۳۰

- (۲) ۳۲

- (۳) ۳۴

- (۴) ۳۶

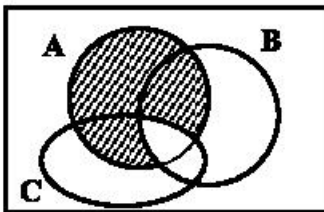


۱۱۲- به ازای کدام مقادیر  $k$ ، معادله درجه دوم  $2x^2 + (k+2)x + 2k = 0$ ، ریشه مضاعف دارد؟

- (۱) ۴ و -۱ (۲) ۶ و ۳ (۳) ۸ و ۲ (۴) ۹ و ۱

محل انجام محاسبات

۱۱۳- مطابق شکل زیر، فرض کنید A، B و C، سه مجموعه باشند. کدام مورد برای قسمت سایه‌خورده، نادرست است؟



(۱)  $(A-B) \cup (A-C)$

(۲)  $A \cap (B' \cup C')$

(۳)  $A - (B \cap C)$

(۴)  $A - (B \cup C)$

۱۱۴- دور یک میز گرد، ۶ نفر به چند طریق می‌توانند قرار گیرند، به طوری که ۲ فرد موردنظر از آنان، همواره کنار یکدیگر باشند؟

(۱) ۲۶

(۲) ۴۸

(۳) ۹۶

(۴) ۱۲۰

۱۱۵- در پرتاب یک تاس و ۲ سکه، احتمال این که لااقل یکی از سکه‌ها «پشت» و عدد رو شده در تاس، فرد باشد، کدام است؟

(۱)  $\frac{۳}{۸}$

(۲)  $\frac{۵}{۱۲}$

(۳)  $\frac{۱}{۲}$

(۴)  $\frac{۵}{۸}$

۱۱۶- نوع متغیر رتبه‌های شرکت‌کنندگان، در آزمون سراسری، کدام است؟

(۱) کمی - نسبتی

(۲) کمی - فاصله‌ای

(۳) کمی - ترتیبی

(۴) کیفی - ترتیبی

۱۱۷- در داده‌های آماری ۱۵، ۱۷، ۱۰، ۱۳، ۱۲، ۵، ۹، ۱۶، ۱۷، ۱۳، ۱۴، ۱۲، تفاضل میانه از میانگین، کدام است؟

(۱) ۰/۱

(۲) ۰/۲

(۳) ۰/۳

(۴) ۰/۴

۱۱۸- در یک دنباله حسابی، مجموع جملات سوم، پنجم و سیزدهم برابر ۷۵ است. جمله هفتم، کدام است؟

(۱) ۲۲

(۲) ۲۴

(۳) ۲۵

(۴) ۲۹

۱۱۹- جمله‌های دوم و پنجم یک دنباله هندسی، به ترتیب،  $\frac{1}{۳}$  و ۲ هستند. مجموع هشت جمله اول دنباله، کدام است؟

(۱)  $۶۳/۵$

(۲)  $۶۳/۷۵$

(۳)  $۶۴/۵$

(۴)  $۶۷/۷۵$

۱۲۰- حاصل  $\lim_{n \rightarrow +\infty} \frac{\left(\frac{۲}{۳}\right)^n}{(\sqrt{۳})^n}$ ، کدام است؟

(۱) صفر

(۲) ۱

(۳)  $\frac{1}{\sqrt{۳}}$

(۴)  $\infty$

محل انجام محاسبات

- ۱۲۱- کدام گزینه، دربرگیرنده پاسخ درست و کامل پرسش‌های زیر است؟  
 الف) یکی از شرایط محاسبه و منظور فعالیت‌های تولیدی در حسابداری ملی عبارتست از: تولید در محدوده مکانی معینی صورت گیرد. کدام مورد در ارتباط مستقیم با آن نیست؟  
 ب) «.....» موجب می‌شود که هر کشور به تولید آن دسته از کالاها و خدماتی بپردازد که منابع طبیعی، سرمایه، نیروی انسانی و تجربه و معلومات فنی متناسب با آن را در اختیار دارد.  
 ج) مبادرت به استفاده از کدام‌یک از منابع درآمد دولت ممکن است تورم‌زا باشد و آن چه زمانی است؟  
 ۱) الف) تولید داخلی ب) تجارت بین‌المللی ج) استقراض - چنانچه از بانک جهانی باشد.  
 ۲) الف) تولید خالص ب) تخصص بین‌المللی ج) انتشار اسکناس جدید - اقتصاد در حالت اشتغال کامل باشد.  
 ۳) الف) تولید ملی ب) تجارت خارجی ج) مالیات بر تجارت خارجی - در صورتی که بر کالاهای اساسی و حیاتی تعلق یابد.  
 ۴) الف) درآمد ملی ب) تکنولوژی مدرن ج) سود حاصل از سرمایه‌گذاری‌های دولتی - چنانچه این سرمایه‌گذاری‌ها از نوع زیربنایی و اجتماعی باشد.  
 ۱۲۲- با توجه به اطلاعات ارائه شده در جدول زیر، نتیجه عملکرد سالیانه یک بنگاه اقتصادی با ۱۲ نفر کارمند و تولید سالیانه ۴۰۰ دستگاه هر کدام به ارزش: ۹۰۰,۰۰۰ ریال کدام است؟

۱	اجاره بهای ماهیانه کارگاه تولیدی	۱۰,۰۰۰,۰۰۰ ریال
۲	حقوق متوسط ماهیانه هر فرد کارمند اداری و تولیدی «معادل»	۷۰۰,۰۰۰ ریال
۳	خرید مواد اولیه مورد نیاز سالیانه به ارزش	۱۷۸,۰۰۰,۰۰۰ ریال
۴	هزینه استهلاك سالیانه ماشین‌های تولیدی	معادل ۲۵ درصد حقوق سالیانه کارمندان

- ۱) ۴۲,۲۰۰,۰۰۰ زیان ۲) ۴۳,۲۰۰,۰۰۰ سود  
 ۳) ۶۴,۰۰۰,۰۰۰ زیان ۴) ۶۳,۰۰۰,۰۰۰ سود

- ۱۲۳- کدام گزینه، مشتمل بر پاسخ درست و کامل سؤالات زیر است؟  
 الف) کدام عامل از جمله عوامل مؤثر در استفاده از پول‌های صندوق مؤسسات مالی در قرون ۱۶ و ۱۷ م. توسط صاحبان آن‌ها نبوده است؟  
 ب) در صورتی که درآمد حاصل از سایر منابع و استقراض، تکافی هزینه‌های دولت را ننماید:  
 ج) اگر کشوری با افزایش حجم پول روبه‌رو باشد، زمینه برای یکی از مشکلات اقتصادی که همانا «.....» است، در آن کشور افزایش می‌یابد.  
 ۱) الف) راکد ماندن مقدار زیادی از موجودی صندوق ب) بانک مرکزی، نرخ تنزیل مجدد را افزایش می‌دهد ج) بیکاری  
 ۲) الف) عدم اخذ سپرده به‌طور کامل توسط مشتریان ب) بانک مرکزی نرخ سپرده‌های قانونی را کاهش می‌دهد ج) رکود  
 ۳) الف) امکان دریافت کل سپرده‌ها توسط مشتریان و خطر عدم استفاده از آن ب) بنا به درخواست دولت، بانک مرکزی مبادرت به انتشار اسکناس می‌کند ج) تورم  
 ۴) الف) اخذ سپرده توسط پاره‌ای از مشتریان در مقابل سپرده‌گذاری مجدد ب) طبق قانون، مجلس شورای اسلامی بانک مرکزی را وادار به اعمال سیاست بازار باز می‌کند ج) بحران



۱۲۴- با توجه به مندرجات جدول زیر و همچنین چنانچه مجموع ارزش اقلام ماشین آلات، پوشاک و مواد غذایی در یک جامعه فرضی: ۱۶۵ میلیارد ریال باشد، در این صورت:

- الف) تولید خالص ملی  
ب) تولید داخلی سرانه  
ج) تولید ناخالص داخلی، کدام است؟

۱	تولید مردم کشور که در خارج اقامت دارند	به ارزش ۶۵ میلیارد ریال
۲	تولید خارجیان مقیم کشور	به ارزش ۱۵ میلیارد ریال
۳	خدمات ارائه شده	$\frac{۳}{۵}$ ارزش تولید مردم کشور که در خارج اقامت دارند
۴	هزینه استهلاک	$\frac{۲}{۳}$ ارزش تولید خارجیان مقیم کشور
۵	جمعیت کل کشور	۶۵ میلیون نفر

- ۱) الف) ۲۵۹ (ب) ۳/۲۱ (ج) ۲۱۹  
۲) الف) ۲۹۵ (ب) ۴/۲۱ (ج) ۲۹۱  
۳) الف) ۲۵۹ (ب) ۴/۱۲ (ج) ۲۹۱  
۴) الف) ۲۵۹ (ب) ۳/۲۱ (ج) ۲۱۹

۱۲۵- کدام گزینه، متضمن پاسخ درست و کامل پرسش‌های زیر است؟

- الف) کدام مورد، در رابطه با استقلال اقتصادی درست است؟  
ب) کدام مورد، مربوط به نقش دولت در اقتصاد امروز جامعه است؟  
ج) چون بدون داشتن نیروهای متخصص و متعهد، انجام سرمایه‌گذاری‌ها و کسب استقلال اقتصادی میسر نیست، بنابراین:

- د) گسترش فعالیت‌های اقتصادی بخش خصوصی در کشورهای در حال توسعه، وظیفه مهم کدام سازمان بین‌المللی است؟
- ۱) الف) وابستگی هر کشوری به کشور دیگر به معنای وابستگی اقتصادی است. ب) جمع‌آوری مالیات برای تأمین هزینه‌های مربوط به فعالیت‌های اجتماعی و دفاعی (ج) باید به دیر بازدهی رسیدن این سرمایه‌گذاری‌ها و زمان طولانی آن را تحمل نمود. د) سازمان تجارت جهانی
- ۲) الف) عدم وابستگی اقتصادی را نمی‌توان معادل استقلال اقتصادی دانست. ب) مقابله با تورم، حفظ ثبات اقتصادی، هدایت جامعه در مسیر رشد و توسعه اقتصادی و ایجاد اشتغال کامل (ج) به‌نظر می‌رسد که مهم‌ترین سرمایه‌گذاری‌های دولت سرمایه‌گذاری اجتماعی است. د) مؤسسه مالی بین‌المللی
- ۳) الف) استقلال اقتصادی همانند استقلال سیاسی به معنای عدم وابستگی اقتصادی است. ب) حفظ نظم و امنیت و مدافع ملت در مقابل دشمنان داخلی و خارجی (ج) باید درآمدهای حاصل از منابع اقتصادی و طبیعی را برای تولید کالاهای سرمایه‌ای و کالاهای تکمیلی مصرف نمود. د) بانک بین‌المللی توسعه و ترمیم.
- ۴) الف) وابستگی اقتصادی به معنای عدم استقلال اقتصادی است. ب) پرداخت حقوق کارکنان کشوری و لشکری و سایر هزینه‌های جاری دولت، بعلاوه اعمال اقدامات خاص در مواقع قحطی و گرانی (ج) بهره‌برداری مطلوب از فعالیت‌های اقتصادی که مستلزم پرداختن به سرمایه‌گذاری‌های زیربنایی است، ضروری می‌باشد. د) سازمان بین‌المللی توسعه

۱۲۶- جدول زیر، مبین اقلام مختلف درآمدی است که در طول یکسان نصیب یک جامعه فرضی شده است. با توجه به مندرجات جدول:

- (الف) کدام ردیف جدول، قیمت خدمات سرمایه و کدام ردیف، اجاره بها یا مال الاجاره است؟  
 (ب) درآمد ملی این جامعه چقدر است؟  
 (ج) درآمد سرانه آن کدام است؟  
 (د) مفهوم و معنای سرانه چیست؟

قابل توجه: درآمد کارمندان و کارگران موضوع ردیف‌های ۳ و ۶ به تفکیک محاسبه شده است.

ردیف	اقلام درآمدی	ارزش
۱	درآمد صاحبان املاک و مستغلات	۳۲۸ میلیارد ریال
۲	سود شرکت‌ها و مؤسسات	$\frac{۲}{۳}$ درآمد صاحبان سرمایه
۳	درآمد حقوق‌بگیران	$\frac{۲}{۶}$ مجموع درآمد ردیف‌های ۱ و ۶
۴	درآمد صاحبان سرمایه	۳۴۸ میلیارد ریال
۵	درآمد صاحبان مشاغل آزاد	$\frac{۱}{۳}$ مجموع درآمد ردیف‌های ۴ و ۶
۶	دستمزدها	۲۳۳ میلیارد ریال
۷	جمعیت کل کشور	۵۰ میلیون نفر

- (۱) الف) ردیف: ۱ و ردیف ۴ (ب) ۱۵۱۲ (ج) ۳۰۴۲ (د) سهم متوسط هر فرد جامعه از میزان درآمد آن جامعه  
 (۲) الف) ردیف: ۱ و ردیف ۴ (ب) ۱۵۲۱ (ج) ۳۰/۲۴ (د) سهم متوسط هر فرد جامعه از میزان تولید آن جامعه  
 (۳) الف) ردیف: ۴ و ردیف ۱ (ب) ۱۵۱۲ (ج) ۳۰/۲۴ (د) سهم متوسط هر فرد جامعه از میزان تولید و درآمد آن جامعه  
 (۴) الف) ردیف: ۴ و ردیف ۱ (ب) ۱۵۲۱ (ج) ۳۰۴۲ (د) سهم متوسط هر فرد جامعه از میزان درآمد و تولید آن جامعه  
 ۱۲۷- کدام گزینه، بیانگر پاسخ درست و کامل سؤالات زیر است؟

- (الف) کدام مورد، ردیف فعالیت‌های مربوط به خدمات بانکی نیست؟  
 (ب) در استفاده از کدام مورد، وجوه دریافتی حتماً باید در طرح‌های مشخص، تولیدی، عمرانی و یا خدماتی به‌کار گرفته شود و در استفاده از کدام مورد برای وام‌گیرنده محدودیت خاصی وجود ندارد؟  
 (ج) مطلب زیر مربوط به کدام یک از عوامل روی آوری کشورها به تجارت بین‌الملل است؟  
 «بعضی کشورها از زمین‌های حاصلخیز و منابع آبی کافی، برخی از منابع زیرزمینی فراوان و برخی دیگر از نیروی انسانی متخصص بهره‌مندند. برای مثال: کشور ایران دارای منابع نفت و گاز فراوان است. در کشور استرالیا زمین‌های حاصلخیز و آب کافی برای محصولات کشاورزی فراوان یافت می‌شود و کشور ژاپن در حوزه الکترونیک نیروی متخصص فراوان در اختیار دارد.»

(د) کدام عبارت، در رابطه با مهم‌ترین اهداف سازمان همکاری اقتصادی، نادرست است؟

- (۱) الف) پرداخت بدهی مشتریان در صورت درخواست آن‌ها (ب) اوراق سهام - اوراق قرضه (ج) شرایط اقلیمی متفاوت (د) بهبود شرایط برای توسعه اقتصادی پایدار کشورهای عضو  
 (۲) الف) نقل و انتقال وجوه در داخل کشور (ب) اسناد خزانه - اوراق مشارکت (ج) تنوع و تعدد نیازها و متفاوت بودن آن‌ها در مناطق مختلف (د) تهیه برنامه مشترک برای توسعه منابع انسانی  
 (۳) الف) وصول مطالبات اسنادی و سود سهام مشتریان و واریز به حساب آن‌ها (ب) اوراق قرضه - اوراق مشارکت (ج) یکسان نبودن کشورها از نظر دسترسی به تکنولوژی (د) اتخاذ تدابیری برای حذف تدریجی موانع تجاری در منطقه (کو)  
 (۴) الف) نگهداری ذخایر قانونی و موجودی نقدی بانک‌ها (ب) اوراق مشارکت - اوراق قرضه (ج) یکسان نبودن منابع و عوامل تولید (د) تسریع در برنامه‌های توسعه زیربنای شبکه‌های بزرگ آبرسانی، ساخت نیروگاه‌های پتروشیمی

۱۲۸- میزان تولید کل کشوری در سه سال متوالی به ترتیب سال اول: ۱۵۰۰، سال دوم: ۱۷۰۰ و سال سوم: ۱۸۷۵ هزار میلیارد ریال بوده است. با گزینش سال اول به عنوان سال پایه، میزان تولید کل در سه سال مورد نظر برحسب قیمت‌های سال پایه به ۱۵۰۰، ۱۶۵۰ و ۱۷۱۰ تغییر یافته است. براساس این محاسبات به ترتیب از راست به چپ:

(الف) کدام اعداد مربوط به پدیده تورم در سال دوم و سال سوم در این جامعه است؟

(ب) افزایش مقدار تولید در سال دوم و سال سوم، کدام است؟

(ج) افزایش قیمت‌ها در سال دوم و سال سوم کدام است؟

(۱) الف) ۵۰-۱۶۵ (ب) ۱۵۰-۲۱۰ (ج) ۵۰-۱۶۵

(۲) الف) ۵۰-۱۶۵ (ب) ۱۵۰-۲۱۰ (ج) ۵۰-۱۶۵

(۳) الف) ۵۰-۱۶۵ (ب) ۱۵۰-۲۱۰ (ج) ۵۰-۱۶۵

(۴) الف) ۵۰-۱۶۵ (ب) ۱۵۰-۲۱۰ (ج) ۵۰-۱۶۵

۱۲۹- کدام گزینه، دربرگیرنده پاسخ درست و کامل پرسش‌های زیر است؟

(الف) تولیدکنندگان برای تولید محصولات خود اعم از کالاها و خدمات به ناچار باید مقداری هزینه کنند. کدام مورد در این رابطه، درست نیست؟

(ب) کدام گزینه، مبین مفهوم و معنای نزولی بودن منحنی تقاضاست؟

(ج) وصول مطالبات اسنادی و سود سهام مشتریان و واریز به حساب آن‌ها مربوط به کدام فعالیت‌ها است؟

(د) همه موارد در رابطه با به وجود آمدن نهادی با عنوان دولت درست است؛ به جز:

(ه) در سال‌های بعد از پایان جنگ جهانی دوم کشورهای در حال توسعه تلاش جدی برای رسیدن به شکوفایی را آغاز کردند اما در اکثر کشورها، پیشرفت‌های مختصر آن هم به بهای «.....» اتفاق افتاد.

(۱) الف) ماشین‌آلات و مواد اولیه خریداری نمایند. (ب) کاهش مقدار تقاضا در مقابل کاهش قیمت (ج) بانک‌های خصوصی (د)

در عصر ما انسان‌ها، وجود و حضور دولت بیشتر از اعصار گذشته احساس می‌شود. (ه) اتلاف منابع انسانی

(۲) الف) تعدادی کارگر و کارمند به استخدام خود درآورند. (ب) کاهش مقدار تقاضا در مقابل کاهش قیمت (ج) بانک

مرکزی (د) با گذشت زمان دولت‌ها به تدریج به محدوده اقتصاد جامعه نیز نفوذ کردند و با شهروندان خود رابطه مالی

برقرار نمودند. (ه) از بین رفتن منابع آب

(۳) الف) آن‌ها باید محلی را به عنوان کارگاه، مغازه یا دفتر کار خریداری یا اجاره کنند. (ب) افزایش قیمت در مقابل

کاهش قیمت (ج) بانک‌های تخصصی (د) از زمان شکل‌گیری نخستین تمدن‌های بشری، نیاز به نهادی که اداره امور

این جوامع را برعهده گیرد احساس می‌شد. بنابراین نخستین دولت‌ها به وجود آمدند. (ه) فقر بیشتر جامعه

(۴) الف) تولیدکنندگان با فروش محصولات خود مقداری پول به دست می‌آورند. (ب) کاهش مقدار تقاضا در مقابل افزایش

قیمت (ج) شبکه بانکی (د) ماهیت این نهاد و میزان قدرت آن در جوامع مختلف یکسان بوده اما با گذشت زمان و

تکامل جوامع و کشف قوانین حاکم بر طبیعت، محدوده اقتدار دولت تنگ‌تر شده است. (ه) تخریب شدید

محیط زیست

محل انجام محاسبات



۱۳۰- جدول زیر، حاوی اطلاعات فرضی مربوط به تولید کل کشوری در سه سال پی‌پی‌پی است. اگر میزان تورم در سال دوم و سوم به ترتیب: ۲۴۷ و ۱۶۳۱ هزار میلیارد ریال باشد، در این صورت به ترتیب از راست به چپ:

سال	تولید کل	سال	تولید کل	سال	تولید کل
۱۳۸۱	۱۳۸۰	۱۳۷۹	۴۲۹۰	؟	۷۸۰۰
ارزش تولید کل به قیمت جاری	؟	۴۲۹۰	۷۸۰۰	؟	۷۸۰۰
ارزش تولید کل به قیمت ثابت	۵۸۳۰	۴۲۹۰	۷۸۰۰	؟	۷۸۰۰

الف) ارزش تولید کل در سال دوم و سوم، کدام است؟  
ب) مقدار افزایش تولید کل در سال دوم و سوم، چقدر است؟  
سال پایه، سال ۱۳۷۹ منظور شده است.

۱) الف) ۵۵۸۳-۶۱۶۹ (ب) ۱۲۹۳-۱۸۷۹

۲) الف) ۵۵۸۳-۹۴۳۱ (ب) ۱۲۹۳-۵۱۴۱

۳) الف) ۶۰۷۷-۶۱۶۹ (ب) ۱۵۴۰-۱۸۷۹

۴) الف) ۶۰۷۷-۹۴۳۱ (ب) ۱۵۴۰-۵۱۴۱

۱۳۱- پاسخ درست و کامل سؤالات زیر در کدام گزینه، مطرح شده است؟

الف) براساس اعتقاد تحلیل‌گران اقتصادی و اجتماعی، آنچه که افق دید افراد را محدود کرده، آن‌ها را از هرگونه مشارکت مؤثر و سازنده بازمی‌دارد، چیست؟

ب) در اصل ۴۳ قانون اساسی، بر کدام مورد، تأکید شده است؟

ج) مطلب زیرف مربوط به استدلال کدام گروه اقتصادی است؟

«امروزه برخی از کارشناسان و تحلیلگران بر این باورند که کشورهای در حال توسعه در مراحل اولیه توسعه به حضور دولتی مقتدر و کارآمد که با جدیت چرخ‌های اقتصاد را به حرکت درآورد نیازمندند. اما هر قدر که کشور در مسیر توسعه پیش برود و مراحل اولیه را پشت سر بگذارد، نیاز به حضور دولت کمتر احساس شده و در صورت ادامه مشکل‌ساز نیز خواهد بود.»

د) کدام مورد، در رابطه با اهداف دولت در مبادرت به اخذ مالیات، نادرست است؟

ه) مطلب زیر، درباره چه سیاستی است و روش مربوط به آن کدام است؟

«بانک‌ها اسناد اعتباری خود را به بانک مرکزی تحویل می‌دهند و قبل از زمان سررسید آن پول را دریافت می‌کنند، آنگاه با وام دادن به مردم این پول را به بازار تزریق می‌کنند.»

۱) الف) بیسوادی (ب) مبارزه با ثروت‌اندوزی از روش‌های غیرقانونی (ج) طرفداران اقتصاد آزاد (د) مالیات برای دولت یک منبع درآمد محسوب می‌شود. ه) انقباض پولی - افزایش نرخ تنزیل مجدد.

۲) الف) اعتیاد (ب) محترم شمردن مالکیت مشروع با رعایت قوانین کشور (ج) طرفداران مداخله دولت در امور اقتصادی (د) مالیات‌بزاری است برای سیاست‌گذاری‌های اقتصادی (ه) انبساط پولی - پایین آوردن نسبت ذخایر قانونی

۳) الف) فقر (ب) ریشه‌کن کردن فقر و محرومیت و تأمین نیازهای اساسی همه افراد جامعه (ج) طرفداران مداخله مشروط دولت در امور اقتصادی (د) مالیات یکی از اهرم‌های قوی هدایت اقتصاد هر جامعه است. ه) انبساط پولی - پایین آوردن نرخ تنزیل مجدد.

۴) الف) بیکاری (ب) عدم وجود تبعیض بین مناطق مختلف کشور (ج) طرفداران اقتصاد با برنامه‌ریزی متمرکز (د) مالیات گامی در جهت رفع نابرابری‌های اقتصادی و اجتماعی و توزیع عادلانه درآمدهاست. ه) انقباض پولی - افزایش نرخ سپرده‌های قانونی

- ۱۳۲- اطلاعات ارائه شده در جدول زیر، مربوط به یک جامعه فرضی است، با توجه به مندرجات جدول:
- (الف) ارزش پولی مسکوکات موجود در دست مردم، چقدر است؟
- (ب) میزان حجم شبه پول این جامعه چیست؟
- (ج) حجم کل پول موجود یا کل نقدینگی این جامعه، کدام است؟

۱	ارزش پولی حساب‌های قرض‌الحسنه	۱۲۸۰ واحد
۲	ارزش پولی مجموع مسکوکات در دست مردم	$\frac{۲}{۵}$ موجودی اسکناس‌ها
۳	ارزش پولی مجموع اسکناس‌ها	۲۰۰۰ واحد
۴	ارزش پولی سپرده‌های دیداری	۱۸۰ واحد
۵	ارزش پولی موجودی سپرده‌های مدت‌دار مردم	۲۳۰ واحد
۶	ارزش پولی مجموع سپرده‌های دیداری و غیردیداری مردم	۱۰۰۰ واحد

- (۱) الف) ۸۰۰ (ب) ۲۰۱۰ (ج) ۵۸۰۰  
 (۲) الف) ۸۰۰ (ب) ۲۱۰۰ (ج) ۵۰۸۰  
 (۳) الف) ۸۲۰ (ب) ۲۰۱۰ (ج) ۵۸۰۰  
 (۴) الف) ۸۲۰ (ب) ۲۱۰۰ (ج) ۵۰۸۰

- ۱۳۳- کدام گزینه، مبین پاسخ درست و کامل پرسش‌های زیر است؟
- (الف) احساس رضایت در چه زمانی برای انسان حاصل می‌شود؟
- (ب) آمریکا بعد از «.....» برای بازسازی اقتصادهای آسیب‌دیده کشورهای هم‌پیمان خود، در «.....» مبالغ هنگفتی صرف کرد. این برنامه بازسازی به «.....» معروف است.
- (ج) نظر به این که به‌کارگیری سیاست‌های گوناگون توسط دولت برای افزایش تولید کالاها و خدمات در جامعه است. پس می‌توان نتیجه گرفت:
- (د) چه زمانی، اثر تغییرات قیمت در محاسبه تولید کل جامعه از بین می‌رود و تغییرات موجود فقط نشان‌دهنده تغییر در میزان کالاها و خدمات، خواهد بود؟
- (ه) پسته، قهوه و محصولات دامی به‌ترتیب تولید غالب کدام کشورهاست؟
- (و) منبع و منشاء اصلی و اساسی، کالاها و خدماتی که مورد استفاده قرار می‌گیرند، کدام است؟
- (۱) الف) بعد از رفع نیاز (ب) جنگ جهانی دوم - اروپا - طرح مارشال (ج) افزایش مقدار کالاها و خدمات در جامعه از علائم موفقیت دولت در عرصه اقتصاد جامعه است. (د) موقعی که سال معینی را به‌عنوان سال پایه، انتخاب و ارزش تولیدات هر سال را برحسب قیمت کالاها و خدمات در سال پایه، نه سال جاری محاسبه نمود. (ه) ایران، برزیل و آرژانتین (و) طبیعت
- (۲) الف) بعد از کسب سود (ب) جنگ جهانی اول - اروپا - اصل عمران جان، اف، کندی (ج) بالا بردن میزان تولید کل در دنیای امروز تا حدی دلیل ضعفی بر توان و قدرت اقتصادی یک جامعه است. (د) موقعی که ارقام محاسبه شده در هر سال، در اصل حاصل ضرب مقدار کالاهای تولید شده در قیمت هر واحد کالاهاست، لذا باید ارزش آن‌ها را برحسب واحد پولی ملی محاسبه کرد (ه) مصر، نیجریه، برزیل (و) مدیریت
- (۳) الف) زمانی که تمام نیازهای انسان رفع شد و او دیگر محرکی برای فعالیت نداشت. (ب) جنگ جهانی اول - اروپای شرقی - اصل ۴ ترومن (ج) دولت بدون توجه به ذخایر و منابع اقتصادی برای نسل آینده درصدد استفاده بی‌رویه از منابع کشور است. (د) زمانی که سال دوم به‌عنوان سال پایه انتخاب و براساس آن محاسبه را انجام داد. (ه) ایران، غنا، کوبا (و) تکنولوژی
- (۴) الف) بعد از حرکت و شتاب به سوی فعالیت و تلاش اقتصادی (ب) جنگ جهانی دوم - اروپای شرقی - طرح توسعه آیزنهاور (ج) غالب دولت‌ها این ذهنیت نابه‌جا را رواج داده‌اند که بالا بردن میزان تولید کل به دلیل توسعه یک جامعه است. (د) چنانچه سال سوم را به‌عنوان سال پایه برای سال‌های اول و دوم فرض کرده محاسبه نمود. (ه) آرژانتین، غنا، نیجریه (و) سرمایه

۱۳۴- مندرجات جدول زیر، بیانگر وضعیت توزیع درآمد در یک کشور فرضی در سال ۱۹۷۸ میلادی براساس شاخص دهک‌ها است. چنانچه:

تفاوت سهام دهک اول و دهم: ۱۹ درصد

تفاوت سهام دهک دوم و نهم: ۹/۵ درصد

تفاوت سهام دهک سوم و نهم: ۸/۵ درصد

تفاوت سهام اول و هفتم: ۷/۵ درصد باشد، در این صورت:

سهام دهک اول و سهام دهک سوم و سهام دهک هفتم و سهام دهک نهم به ترتیب چند درصد است؟

۱	سهام دهک اول	؟
۲	سهام دهک دوم	۵ درصد
۳	سهام دهک سوم	؟
۴	سهام دهک چهارم	۷ درصد
۵	سهام دهک پنجم	۷/۵ درصد
۶	سهام دهک ششم	۸/۵ درصد
۷	سهام دهک هفتم	؟
۸	سهام دهک هشتم	۱۳ درصد
۹	سهام دهک نهم	؟
۱۰	سهام دهک دهم	۲۳ درصد
	صد درصد جمعیت کشور	صد درصد درآمد ملی

(۱) چهار - شش - یازده - چهارده

(۲) چهار - شش - یازده و نیم - چهارده و نیم

(۳) سه و نیم - شش و نیم - یازده - چهارده

(۴) سه و نیم - شش و نیم - یازده و نیم - چهارده و نیم

۱۳۵- کدام گزینه، بیانگر پاسخ درست و کامل پرسش‌های زیر است؟

(الف) کدام مورد، در رابطه با واقعیت نادرست است؟

(ب) گسترش فعالیت‌های اقتصادی، افزایش بهره‌وری و سطح زندگی در کشورهای در حال توسعه از طریق اجرای طرح‌های مطالعاتی، برگزاری سمینارها و سخنرانی‌ها و همچنین اعطای اعتبار با شرایط آسان به کشورهای مذکور از وظایف اصلی کدام سازمان است؟

(ج) در محاسبه تولید کل جامعه باید از محاسبه ارزش کالاهای «.....» صرفنظر کرده و فقط ارزش کالاهای «.....» را محاسبه نمود.

(د) علاوه بر آثار مثبت تجارت بین‌الملل بر اقتصاد کشورها، دستیابی به چه چیزی می‌تواند به‌عنوان یک عامل مهم دیگر، اقتصاد کشورها را تحت‌تأثیر قرار دهد؟

(ه) هرگاه در یک واحد تولیدی در طول یک دوره معین تفاوت درآمد هزینه تولید محاسبه گردد به آن چه می‌گویند؟ (و) ورقه قابل معامله که بر روی آن اطلاعاتی شامل میزان مشارکت، تعهدات و منافع صاحب آن درج شده است، چیست؟

(۱) الف) به‌منظر می‌رسد که میان پیش‌فرض‌های علم اقتصاد و تعالیم اسلامی تقابلی آشکار وجود دارد. (ب) سازمان بین‌المللی توسعه (ج) واسطه‌ای - نهایی (د) تخصص (ه) میزان سود (و) سهام

(۲) الف) فرض نامحدود بودن نیازهای انسان با الگوی مصرف اسلامی لزوماً ناسازگار نیست. (ب) بانک بین‌المللی توسعه و ترمیم (ج) سرمایه‌ای - مصرفی (د) تکنولوژی مدرن (ه) میزان تولید خالص داخلی (و) سهام مؤسس

(۳) الف) پذیرفتن فرض محدود بودن منابع در دسترس انسان با اعتقاد به بی‌حد و حصر بودن نعمت‌های الهی ناسازگار نیست. (ب) مؤسسه تضمین سرمایه‌گذاری چند جانبه (ج) مصرفی - سرمایه‌ای (د) انرژی هسته‌ای (ه) میزان اجاره

(و) سهام ممتاز

(۴) الف) محدود بودن منابع به این دلیل است که انسان راه استفاده از منابع را کشف نکرده است یا سطح دانش فنی انسان پایین است. (ب) مؤسسه مالی بین‌المللی (ج) نهایی - واسطه‌ای (د) منابع و مواد اولیه فراوان و نیروی انسانی

ارزان (ه) میزان بهره (و) سهام با حق چند رأی



۱۳۶- نثر تاریخی با کدام کتاب آغاز شد و در قرن پنجم در کدام اثر اوج و اعتبار خاصی یافت؟

- (۱) تاریخ سیستان، تاریخ بیهقی  
(۲) تاریخ بلعمی، تاریخ بیهقی  
(۳) شاهنامه ابومنصوری، تاریخ بیهقی  
(۴) شاهنامه ابومنصوری، تاریخ سیستان

۱۳۷- همه گزینه‌ها در مورد «شاعر خرد» درست است؛ به جز:

- (۱) دانش او افزون و خطش نیکو بود و با فلسفه و کلام آشنایی داشت.  
(۲) به تازی و پارسی شعر نیکو می‌گفته است و شعر او با چاشنی فکر و فلسفه توأم شده است.  
(۳) با محمد بن زکریای رازی، طبیب و فیلسوف معاصر خود، مناظره‌ها و مباحثاتی داشته است.  
(۴) مثنوی آفرین‌نامه وی سرشار از اندرز و حکمت است که ابیاتی چند از آن باقی مانده است.

۱۳۸- کدام گزینه‌ها، از دیدگاه تاریخ ادبیات درست هستند؟

- (الف) در عصر بیهقی، خاستگاه نثر فارسی به مانند شعر، خراسان و ماوراءالنهر بود.  
(ب) کتاب التفهیم، اولین و مهم‌ترین کتابی است که خاص علم نجوم و هندسه و حساب به فارسی نوشته شده است.  
(ج) نثر بخشی نخستین کتاب تاریخ سیستان مانند تاریخ دوره قبل دارای لغات و ترکیبات دشوار تازی است.  
(د) اهمیت دانشنامه علایی از آن جهت است که یک دوره کامل طب و معارف اسلامی را به زبان عربی بیان می‌کند.  
(ه) سیاست‌نامه از متن‌های مهم تاریخی و ادبی قرن پنجم هجری است که به نثری ساده، اما محکم و ادبی نوشته شده است.

- (۱) الف، ب، ج (۲) الف، ب، ه (۳) ب، ج، د (۴) ب، د، ه

۱۳۹- بیت زیر، بیانگر کدام یک از مشخصات کلی سبک شعری عصر صائب است؟

«موشکافان زود در دل‌ها تصرف می‌کنند / شانه در زلف پریشان جای خود وا می‌کند»

- (۱) استفاده از زبان و الفاظ محاوره که پیش از آن کمتر در عرصه شعر معمول بوده است.  
(۲) فزونی مفاهیم و تعبیراتی که در آن دو حس را به هم در می‌آمیزند یا به جای یکدیگر به کار می‌برند.  
(۳) رواج نوعی حکمت و استدلال عامیانه که حاصل روی گردانی از تجربیات عقلی و تفکر فلسفی است.  
(۴) استفاده از ضرب‌المثل و تشبیه و تمثیل به نحوی که مصراع دوم با معنای مصراع اول در موازنه قرار می‌گیرد.

۱۴۰- متنی زیر معرف کدام شخصیت ادبی است و تخلص وی چه بود؟

«هردی خوش محضر و درویش‌منش بود و در میان اهل ادب و عرفان دوستان بسیار داشت. با قآنی روابط نزدیک داشت. او قصیده را به سبک قدما می‌سرود و در غزل مخصوصاً مرثیه‌سرایی به شیوه محتشم نیز دستی قوی داشت.»

- (۱) میرزا شفیع شیرازی - وصال  
(۲) صبای کاشانی - عندلیب  
(۳) میرزا محمود مازندرانی - فدایی  
(۴) میرزا حبیب قآنی - حبیب

۱۴۱- از دیدگاه تاریخ ادبیات، همه موارد کاملاً درست است؛ به جز:

- (۱) تحریر کتاب سمک عیار که در واقع بهترین نمونه نثر داستانی فارسی است در سال ۵۸۵ هجری آغاز گردید.  
(۲) اسکندرنامه منثور را که متنی داستانی از نویسنده‌ای ناشناس است، باید از آثار منثور بازمانده از اواخر قرن پنجم دانست.

(۳) رساله‌های یزدان شناخت و تمهیدات عین‌القضات مجموعه نامه‌های اوست که در زمره شیواترین آثار صوفیانه سده پنجم است.

(۴) محمد بن منور کتاب خود را به سه باب تقسیم کرده و به ویژه در باب دوم به بیان حالات شیخ در سال‌های میانی حیات او پرداخته است.

۱۴۲- کدام نوع رئالیسم، خود را متعهد به بازآفرینی ساده و همه‌فهم می‌کند و هیچ الگویی ارائه نمی‌دهد؟ این رئالیسم بیشتر از کارهای چه کسی آغاز می‌شود؟

- (۱) ابتدایی، بالزاک  
(۲) سوسیالیستی، گوگول  
(۳) جادویی، گارسیا مارکز  
(۴) انتقادی، ماکسیم گورکی



۱۴۳- متن زیر معرف کدام چهره ادبی و از بزرگان کدام مکتب ادبی است؟

«شاعر، منتقد و مترجم فرانسوی؛ او پس از مرگ پدر همواره در مضیقه بود و زندگی تلخی داشت وی مترجم آثار ادگار آلن پو به زبان فرانسه است.»

- (۱) ژان آرتور رمبو - سوررئالیسم  
(۲) شارل پیر بودلر - سمبولیسم  
(۳) آندره برتون - سوررئالیسم  
(۴) استفان مالارمه - دادائیسم

۱۴۴- پدیدآورنده هر یک از آثار زیر به ترتیب، چه کسی است؟

- (۱) سلیم بستانی، یوسف ادریس، نزار قبانی  
(۲) منفلوطی، جبران خلیل جبران، سلیم بستانی  
(۳) نزار قبانی، محمود احمد السید، جبران خلیل جبران  
(۴) یوسف ادریس، غادة السمان، جبران خلیل جبران

۱۴۵- کدام گزینه، با توجه به شعر نوین عرب، نادرست است؟

- (۱) نهال نهضت علمی و فرهنگی جدید که در مصر بالید و رشد کرد، نخست در لبنان کاشته شده بود.  
(۲) «احمد زکی ابوشادی» با انتشار مجله «آپولو» در سپتامبر ۱۹۳۲، شعر رمانتیک عرب را قوام بخشید.  
(۳) شاعران بلاد مهجر، گروهی از شاعران سوررئالیست بودند که از آمریکای شمالی به لبنان مهاجرت کرده بودند.  
(۴) شعر سمبلیک به دنبال شعر رمانتیک پیدا شد و در کنار این سبک گرایش به سوررئالیسم هم در شعر عرب دیده می‌شود.

۱۴۶- استعاره مکنیه در کدام بیت، تشخیصی نیست؟

- (۱) در شامگه هجرش بگداخت تن و جانم  
(۲) پیش از آن دم که زند خط شب از عارض روز  
(۳) در فراقش می‌نویسم نامه‌ای از دست من  
(۴) گرچه چشمم بسته است اما سرشکم می‌رود

۱۴۷- آرایه‌های بیت زیر کدام‌اند؟

- (۱) استعاره، کنایه، حسن تعلیل، ایهام  
(۲) استعاره، تشبیه، کنایه، مجاز، اسلوب معادله  
(۳) تشبیه، کنایه، مجاز، اسلوب معادله  
(۴) تشبیه، حسن تعلیل، مجاز، ایهام تناسب

یوسف خود را به سیم قلب سودا گرد و رفت

۱۴۸- کدام بیت، فاقد استعاره و دارای «تشبیه و جناس» است؟

- (۱) آن زمان کان ماه رخشان خورآیین رخ نمود  
(۲) چه غم ز حربه و حرب عرب چو مجنون را  
(۳) تا زدی در دل من خیمه به اقبال غمت  
(۴) دانی که بر عذار تو خال سیاه چیست؟

۱۴۹- وجه شبه در کدام بیت، محذوف است؟

- (۱) مه چه باشد که به روی تو برابر کنم  
(۲) نگویمت به تو می‌ماند از عزیز عمر  
(۳) خواهم سر خود گوی صفت باخت ولیکن  
(۴) تیر مژگان تو از جوشن جان می‌گذرد

۱۵۰- آرایه‌های مقابل همه ابیات درست است؛ به جز:

- (۱) با باد بوده همره بوی تو در سحرگه  
(۲) یاد باد آن که ز چشم خوش و لعل لب تو  
(۳) دل خراب من از عشق کی شود خالی  
(۴) کوس بدنامی ما بر سر بازار زدند

گل‌ها شنیده بوی خود را به باد داده (حسن آمیزی، تشخیص)  
نقل مجلس همه بادام و شکر بود مرا (لف و نشر، تشبیه)  
چرا که جایگه گنج، کنج ویران است (اسلوب معادله، جناس)  
گرچه بی روی تو ما را سر بازار نبود (مجاز، کنایه)

۱۵۱- آرایه‌های بیت زیر، در کدام گزینه تماماً درست است؟

«ما به خون خود دهان تیشه شیرین می‌کنیم

(۱) تشخیص، مجاز، تضاد، جناس

(۳) جناس، استعاره، ایهام، تشخیص

تلخ ننشیند عبث معشوق شیرین کار ما»

(۲) استعاره، حس آمیزی، ایهام، کنایه

(۴) حس آمیزی، مجاز، پارادوکس، ایهام

۱۵۲- آرایه‌های «جناس تام، لف و نشر، تشبیه، ایهام تناسب» به ترتیب، در کدام ابیات یافت می‌شود؟

(الف) ور لحظه‌ای به کوی تو ناگاه بگذرم

(ب) وز روی آن که رونق خوبان ز روی توست

(ج) ایمان و کفر همه رخسار و زلف توست

(د) بر بوی آن که بوی تو دارد نسیم گل

(۱) ب، د، الف، ج (۲) ب، ج، الف، د

عیبم مکن که روضه رضوانم آرزوست

دائماً نظاره رخ خوبانم آرزوست

در بند کفر مانده و ایمانم آرزوست

پیوسته بوی باغ و گلستانم آرزوست

(۳) د، ج، ب، الف (۴) د، ب، ج، الف

۱۵۳- در کدام بیت «قاعده قافیه» متفاوت است؟

(۱) خوش آن که حلقه‌های سر زلف واکنی

(۲) اولین گام از سمند عقل را پی می‌کنی

(۳) زان فشانم اشک در هر رهگذاری

(۴) این چه دامی است که از سنبل مشکین داری

دیوانگان سلسله‌ات را رها کنی

وادی بی‌منتهای عشق را طی می‌کنی

تا به دامان تو ننشیند غباری

که به هر حلقه آن صد دل مسکین داری

۱۵۴- کدام بیت «ذوقافین» است؟

(۱) کبودگی در پیش تابوت پدر

(۲) حیل‌آموزان جگرها سوخته

(۳) فتنه و آشوب و خون‌ریزی مجوی

(۴) این سخن نه هم ز درد و سوز گفت

زار می‌نالیید و برمی‌کوفت سر

فعل‌ها و مکرها آموخته

بیش از این از شمس تبریزی مگوی

خوابناکی هرزه گفت و باز خفت

۱۵۵- حذف همزه در کدام بیت بیشتر صورت گرفته است؟

(۱) عاقبت سیلابم از سر بگذرد چون دم به دم

(۲) ستیزآوری کار اهریمن است

(۳) دامن گردون پر از خون جگر بینم به صبح

(۴) گویا عزم ندارد که شود روز امشب

راه می‌گیرم بر آب چشم و دیگر می‌چکد

ستیزه به پرخاش آبستن است

بس که در مهر تو اشک از چشم اختر می‌چکد

یا در آید ز در آن شمع شب‌افروز امشب

۱۵۶- وزن عروضی مصراع «چشم تماشای خلق در رخ زیبای اوست» با کدام مصراع همسان است؟

(۱) گر مرد رهی با خبر از ناله دل باش

(۳) قطع نظر ز دشمن ما کرد چشم دوست

(۲) خوشتر از دانه اشکم گه‌ری پیدا نیست

(۴) تا به جفایت خوشم ترک جفا کرده‌ای

۱۵۷- در همه ابیات دو اختیار وزنی «فاعلاتن به جای فعلاتن و ابدال» وجود دارد؛ به جز:

(۱) آب رخ پیش ما کسی دارد

(۲) اگر آن ابرو است و پیشانی

(۳) می‌کند مرغ جان ما پرواز

(۴) چه بود گر به ما رساند باد

که بود خاک آستان شما

نکشید هیچ کس کمان شما

دم به دم سوی آشیان شما

بویی از طرف بوستان شما

۱۵۸- در کدام بیت، اختیار وزنی قلب به کار رفته است؟

(۱) ماهی و چون عیان شوی شمع هزار مجلسی

(۲) از سر رشک سوختم زان همه سوزم از درون

(۳) سینه خاقانی اگر پاک بشویی از غبار

(۴) هم شکری تو هم نمک با تو چه نسبت آب را

سروی و چون روان شوی عشق هزار لشکری

با همه آب ساختی زان همه آبی از تری

پیش خدایگان تو را بیش کند ثناگری

چند به رغم دوستان دشمن خویش پروری

- ۱۵۹- در بیت زیر همه موارد از دیدگاه «عروض و قافیه» درست است؛ به جز:
- «نفسم گرفته زین شب در این حصار بشکن  
در این حصار جادویی روزگار بشکن»
- (۱) قافیه بیت براساس قاعده «۲» آمده است.  
(۲) وزن بیت «فعلاتّ فاعلاتنّ فعلاتّ فاعلاتن» است.  
(۳) طبق اختیارات شاعری در بیت دو بار «همزه» حذف شده است.  
(۴) در بیت اختیار شاعری (کوتاه تلفظ کردن مصوت بلند) یافت می‌شود.
- ۱۶۰- بیت زیر، در کدام وزن سروده شده است؟
- «دست حنایی تو ز نیرنگ دلبری  
یک دست کرد حسن خزان و بهار را»
- (۱) مفتعلن فاعلاتّ مفتعلن فع  
(۲) مفعول فاعلاتّ مفاعیل فاعلن  
(۳) مفعول فاعلاتن مفعول فاعلاتن  
(۴) مفتعلن فاعلن مفاعلن فاعلن
- ۱۶۱- نام وزن عروضی کدام مصراع در مقابل آن «غلط» آمده است؟
- (۱) نه ره گریز دارم نه طریق آشنایی (رمل مثنی‌مخبون)  
(۲) مرغ سان از قفس خاک هوایی گشتم (رمل مثنی‌مخبون محذوف)  
(۳) خرد ز پیری من کی حساب بگیرد (مجتث مثنی‌مخبون محذوف)  
(۴) گر دست رسد در سر زلفین تو بازم (هزج مثنی‌مخرب مکفوف محذوف)
- ۱۶۲- مفهوم کدام بیت با ابیات دیگر، متفاوت است؟
- (۱) چون قبله‌نما خضر ره اهل جهان باش  
(۲) هر پریشان‌سفری راهنمایی دارد  
(۳) چه انتظار خضر می‌بری قدم بردار  
(۴) رهبر حق طلبان روشنی راه بس است
- ۱۶۳- مفهوم کدام بیت با سایر ابیات، متفاوت است؟
- (۱) هر دو عالم خاک شد تا عشق سر پایین فکند  
(۲) بر هر سر شاخی که زند برق محبت  
(۳) گشته ویران خانام از سیل عشق خانه‌کن  
(۴) هرچه خود را می‌کشم از دست عشقش بر کناری
- ۱۶۴- مفهوم بیت زیر، از کدام بیت، دریافت می‌شود؟
- «سهل است اگر بال و پری نقصان این پروانه شد  
(۱) ورمی آتش فرورد در دل من گو فرورد  
(۲) شهر زرتین ز نور خود چو طاووسش دهد  
(۳) شهر پروانه نتواند نقاب شمع شد  
(۴) شمع از آن پروانه را بی‌بال و پر سازد که هست»
- ۱۶۵- مفاهیم «تهجد، رأفت، کمال‌طلبی، تسلیم» به ترتیب، از کدام ابیات دریافت می‌شود؟
- الف) توانی دست در آغوش کردن تنگ با دریا  
ب) گر دل روشن طمع داری در این ظلمت سرا  
ج) دل شکسته به دست آر با تهیدستی  
د) در این وحشت‌سرا تا کی اسیر آب و گل باشیم
- (۱) ج، د، الف، ب  
(۲) د، الف، ب، ج  
(۳) ب، ج، د، الف  
(۴) ج، الف، د
- سرگشته خود و راهنمای دگران باش  
ذوق بی‌پا و سری راهبر مردان است  
هزار گمشده را شوق رهنما کرده است  
ساده‌لوح آن که پی راهنما افتاده است
- غوطه در خون زد جهان تا دست بالا کرد عشق  
نه شاخ به جا ماند و نه خار و نه خاشاک  
چشم آبادی مدار از خانمان ویران عشق  
می‌کشد باز آن خم گیسو دل ما را به سویش
- کان شمع سامان می‌دهد از شعله زرین بال‌ها  
شمع را چون برفروزی روشنی پیدا کند  
شمع اگر پروانه را سوزد به ظاهر بال و پر  
پرده بر رخسار خود ای آتشین سیما منه  
عاشق معشوق رسوا کن سزای سوختن
- اگر دست از عنان اختیار خویش برداری  
بر سر یک پا تمام شب چو شمع استاده باش  
همیشه سبز و سرافراز چون صنوبر باش  
مرا راهی به سوی عالم بالا کرامت کن

■ ■ عَيْنَ الْأَنْسَبِ وَالْأَدَقَّ لِلْجَوَابِ عَنِ التَّرْجُمَةِ أَوْ الْمَفْهُومِ مِنْ أَوْ إِلَى الْعَرَبِيَّةِ (۱۶۶ - ۱۷۲)

۱۶۶- « إذا لا نستشيرُ في أمورنا و لا نستفيد من قدرة عقلمنا كثيراً، نبئلي بحيلة الكذابين! »:

(۱) هنگامی که در کارهایمان مشورت نمی‌کنیم و زیاد از قدرت عقلی خود استفاده نمی‌کنیم، از دروغگویان فریب می‌خوریم!

(۲) هرگاه در کارهایمان مشورت نکنیم و از نیروی عقلمان زیاد استفاده نکنیم، به نیرنگ دروغگویان گرفتار می‌شویم!

(۳) زمانی که در امور خود شور نمائیم و قدرت فراوان عقلمان را بکار نبریم، به نیرنگ دروغگویان مبتلا خواهیم شد!

(۴) آنگاه که در امور خود شور نموده و نیروی عقلی خود را زیاد بکار نبریم، به فریب خوردن از دروغگویان مبتلا خواهیم شد!

۱۶۷- « طوبى لمن يبيت و حوله لم يكن بطناً غرثان و كبد حران و عائل مجفوا! »:

(۱) خوشا به حال کسی که شب را به روز آورد درحالی که شکمی گرسنه و جگری سوخته و تهیدستی رانده شده اطرافش نیست!

(۲) خوش به حال آن کسی که شب را این گونه بخوابد که شکم بسیار گرسنه و جگر سوخته و فقیر طرد شده اطراف او نباشد!

(۳) چه خوش است کسی که شب را صبح کند درحالی که اطرافش شکمی گرسنه و دلی سوخته و خانواده‌ای رانده شده نباشد!

(۴) خوشا بر کسی که در جایی بخوابد و اطراف او شکم بسیار گرسنه و دل سوخته و فقیر طرد شده نباشد!

۱۶۸- « إن يذوق الناس الجراة يرباً من بينهم أبطال يقصمون شوكة المعتدين! »:

(۱) اگر مردم جرأت را بچشند قهرمانانی از بین آنها تربیت می‌شوند که قدرت تجاوزگران را از بین می‌برند!

(۲) اگر جسارت به مردم چشانده شود قهرمانانی بین خود تربیت می‌کنند که عظمت متجاوزان را از بین می‌برند!

(۳) اگر مردم جسارت را بچشند قهرمانانی بین آنان تربیت خواهند شد که قدرت متجاوزین را درهم می‌شکنند!

(۴) اگر جرأت به مردم چشانده شود از بین آنان قهرمانانی تربیت می‌شوند که عظمت تجاوزگران را درهم می‌شکنند!

۱۶۹- عَيْنَ الصَّحِيحِ:

(۱) إن لم نَظلم كما لا نُحِبُّ أَنْ نُظلمَ تَكُنْ الدُّنْيَا جَنَّةً: اگر ظلم نکنیم چون دوست نداریم به ما ظلم کنند، دنیا بهشت می‌شود!

(۲) دعوت صديقاً إلى بيتي دعوة فَنزَلْ عِنْدِي الزُّكْرَاءُ: دوستی را یک بار به خانها دعوت کردم و او چون بزرگواران نزدم وارد شد!

(۳) ما أظلم الإنسان لنفسه بتخريب التوازن في الطبيعة: انسان با خراب شدن موازنه طبیعت به خودش چه ظلمی کرده است!

(۴) استخدم عقلك لتدبير نفسك و لا تستفد إلا من قلبك لتدبير الآخرين: برای اداره کردن خود عقلت را، و برای اداره کردن دیگران قلبت را بکار ببر!



۱۷۰- عین الصحیح:

- (۱) غیض ماء هذا المستنقع و فقدت الطيور ماؤها الذي كان هناك: آب این آبگیر فرو نشست و پرنده گانی که پناهگاهشان آنجا بود مفقود شدند!
- (۲) يجب علينا أن لا نملك الأراذل، و إلا يهلك الأفاضل: ما نباید فرومایگان را فرمانروا کنیم، وگرنه شایستگان را هلاک خواهیم کرد!
- (۳) لا مستشرق إلا و هو معجب باللغتين العربية و الفارسية: هیچ خاورشناسی که شیفته دو زبان عربی و فارسی نباشد وجود ندارد!
- (۴) يا له من شباب شجعان! سببوا انسحاب العدو خاسراً: چه جوانان شجاعی داریم، باعث عقبنشینی دشمن زیانکار شدند!

۱۷۱- « تألیفات ابن هیثم در ستاره شناسی بالغ بر ۲۴ جلد است! »:

- (۱) إن تألیفات ابن الهیثم فی علم الأفلاك تزيد علی عشرين و أربعة مجلداً!
- (۲) إن مؤلفات ابن الهیثم فی علم الفلك زائدة علی عشرين و أربع جلدًا!
- (۳) تألیفات ابن الهیثم فی الأفلاك أكثر من أربع و عشرين جلدًا!
- (۴) مؤلفات ابن الهیثم فی الفلك تبلغ أربعة و عشرين مجلداً!

۱۷۲- عین الصحیح عن المفهوم:

- (۱) البطولة: من يهاجم العدو مهاجمة الأسود و يتغلب عليه!
- (۲) الحمة: الذي أصيب بمرض و يشير المحرار له درجة عالية من الحرارة!
- (۳) الأمطار الحمضية: نوع من الأمطار التي تسبب تلوث الهواء في فصل الشتاء!
- (۴) المنجم: محل التجمع الطبيعي تحت الأرض لأشياء كالتحاس و الذهب و غیرهما!

## ■ ■ عین الصحیح فی الإعراب و التحلیل الصرفی (۱۷۳ - ۱۷۵)

۱۷۳- ﴿لَمَّا رَأَى الْمُؤْمِنُونَ الْأَحْزَابَ قَالُوا هَذَا مَا وَعَدَنَا اللَّهُ﴾:

- (۱) هذا: اسم - إشارة للقريب - معرفة - مبني على السكون / مفعول أو مفعول به لفاعل «قالوا» و منصوب محلاً
- (۲) وعد: فعل ماضٍ - للغائب - معتل و مثال - معلوم أو مبني للمعلوم - مبني / فعل و فاعله ضمير «نا» البارز و الجملة فعلية و صلة
- (۳) الله: لفظ الجلالة - اسم - مفرد مذكر - جامد - معرفة (علم) - معرب - صحيح الآخر / مفعول أو مفعول به لفعل «وعد» و منصوب
- (۴) ما: اسم - موصول عام أو مشترك (صلته جملة: وعدنا ...) - معرفة - مبني على السكون / خبر مفرد للمبتدأ «هذا» و مرفوع محلاً

١٧٤- « كان للبيان و الفصاحة اهتمام بالغ بين الناس! »:

(١) بالغ: مفرد مذكر - اسم فاعل ( مصدره: بلوغ ) - نكرة - منصرف / نعت أو صفة و مرفوع بالتبعية للموصوف « اهتمام »

(٢) اهتمام: اسم - مفرد مذكر - مصدر ( من باب انفعال ) - نكرة - معرب - منصرف / اسم « كان » المؤخر و مرفوع

(٣) كان: فعل ماضٍ - مجرد ثلاثي - معتل و أجوف ( إعلاله بالقلب ) / فعل من الأفعال الناقصة و هي من النواسخ، اسمه « بالغ » و الجملة فعلية

(٤) البيان: اسم - مفرد مذكر - صفة مشبهة ( مشتق من مادة « بين » ) - معرف بال / مجرور بحرف الجر؛ للبيان: جار و مجرور و خبر مقدم لفعل « كان »

١٧٥- « كل عين باكية يوم القيامة إلا ثلاث أعين! »:

(١) ثلاث: من الأعداد الأصلية المفردة - مفرد مذكر ( للمعدود المؤنث ) / مستثنى منقطع مثبت و منصوب

(٢) يوم: اسم - مفرد مذكر - نكرة - معرب - صحيح الآخر - منصرف / ظرف أو مفعول فيه للزمان و منصوب

(٣) عين: اسم - مفرد مؤنث ( معنوي و مجازي ) - نكرة - معرب - صحيح الآخر - منصرف / مبتدأ و مرفوع، و الجملة اسمية

(٤) باكية: مفرد مؤنث - اسم فاعل ( مصدره: بكاء ) - نكرة - معرب - صحيح الآخر ( منقوص في المذكر ) - منصرف / خبر مفرد و مرفوع

■ ■ عَيْنُ الْمُنَاسِبِ لِلْجَوَابِ عَنِ الْأَسْئَلَةِ التَّالِيَةِ (١٧٦-١٨٥)

١٧٦- عَيْنُ الْخَطَأِ فِي ضَبْطِ حَرَكَاتِ الْحُرُوفِ:

(١) نَدِمَ الرَّجُلُ وَ أَخَذَ يَدَ بِنْتِهِ وَ قَبَّلَهَا وَ أَجْلَسَهَا عِنْدَهُ!

(٢) لَا تَظْلِمُ كَمَا لَا تُحِبُّ أَنْ تَظْلَمَ وَ أَحْسَنُ كَمَا تُحِبُّ أَنْ يُحْسَنَ إِلَيْكَ!

(٣) إِنَّ لِسَانَ الْقِطِّ سِلَاحٌ طَيِّبٌ دَائِمٌ لِأَنَّهُ مَمْلُوءٌ بِغَدْدٍ تَفَرَّرَ سَائِلًا مُطَهَّرًا!

(٤) أَنَا أَقْرَأُ الْأَدْعِيَةَ وَ الْأَحَادِيثَ الْإِسْلَامِيَّةَ بِاللُّغَةِ الْعَرَبِيَّةِ وَ لَا أُرَاجِعُ تَرْجُمَتَهَا!

١٧٧- عَيْنُ مَا فِيهِ الْأَسْمَاءُ كُلُّهَا مُؤَنَّثَةٌ:

(٢) مَرَضِي، مَاوِي، مَسْتَشْفِي، هَدِي

(١) حَسَنَاءُ، دَعَوَاءُ، عِلْمَاءُ، عَطَشِي

(٤) حَسَنِي، جَوْعِي، حَيَاءُ، فَتِي

(٣) مَاءُ، دَاءُ، رِضَاءُ، سِوَاءُ

١٧٨- عَيْنُ الموصولِ معرباً:

- (١) شجّع المتفرجات اللاعبات اللاتي فُزن في المباراة!
- (٢) ما اخترنا الأحبة إلا من الذين كانوا في صراط مستقيم!
- (٣) نرى الأشخاص الذين يُزيّنون أجسامهم و لا يُزيّنون أنفسهم!
- (٤) أقرأ درسي مع اللتين لا تتكلمان إلا عن موضوع يرتبط بالدرس!

١٧٩- عَيْنُ الفعلِ المعتل مزيداً:

- (١) إرم سلاحك على الأرض أيها العدو حتى تسلم!
- (٢) إني أجدُّ الرحمة من ربي فهو الراحم لمن يشاء!
- (٣) ما يؤننا الله من شيء فهو من فضله و رحمته!
- (٤) سيصل شبابتنا المجتدون إلى مرتبة المجد و العزة!

١٨٠- عَيْنُ الخبرِ جملة فعلية:

- (١) أحبُّ عباد الله أنفعهم لعباده!
- (٢) إخلاص الناس عند صدق الحديث يظهر!
- (٣) الكتابُ صديقٌ يُنقذك من مصيبة الجهل!
- (٤) الكلامُ كالذواء لا ينفع قليلاً و كثيره قاتل!

١٨١- عَيْنُ حرفِ اللامِ يدلّ على الملكية:

- (١) ألك مكتبة في البيت؟
- (٢) أتعلم لمن تلك القصيدة الرائعة؟
- (٣) ألهذا الكتاب مقّمة طويلة؟
- (٤) أتريد أن نجتمع للحوار حول المباحث اللغوية؟

١٨٢- عَيْنُ ما ليس فيه المفعول المطلق:

- (١) لا أقرّف هذه الجريمة؛ معاذ الله!
- (٢) فرّتم عظيمًا في تلك المباراة!
- (٣) جلوسًا و تعلّمًا أيها الطالب، فاعمل بهما!
- (٤) طلبوا منا إجتهاذا لا تكاسلاً في الحياة!

١٨٣- عَيْنُ ما ليس فيه من أفعال المقاربة:

- (١) بدأ المزارع يقتل البومات التي ظنّ أنها تأكل أفراخه!
- (٢) بدأ من اعتدى على حقوقنا في الحرب يهرب من الخوف!
- (٣) بدأ الرجال يغسلون أبدانهم في العين التي تكون قرب المدينة!
- (٤) بدأ المؤمنون عملهم باسم الله، لا تلهيهم تجارة و لا بيع عنه!

١٨٤- عَيْنُ ما يدلّ على استمرار التفريد في الماضي:

- (١) شاهدت طائراً يُغرّد على العصن!
- (٢) أشاهد بلبلاً يغرّد على الشجرة!
- (٣) شاهدت طيورًا غرّدت في الحديقة!
- (٤) أشاهد عصفورًا مغرّدًا فوق الجدار!

١٨٥- عَيْنُ إعرابِ « غير » مختلفاً عن اليقبة:

- (١) ليسوا في الصف غير مجتدين!
- (٢) خرج الطلاب غير منكممين!
- (٣) حسب ما قال المدير، لا طالبة غير مجتهدة!
- (٤) ما كانوا حين جاؤوا غير سائلين!

۱۸۶- قصر عُمدان با بیست طبقه، از شگفتی‌های ساخته دست بشر، مربوط به کدام حکومت در شبه جزیره عربستان (قبل از ظهور اسلام) است؟

(۱) قُتبان (۲) حمیریان (۳) غسانیان (۴) معینیان

۱۸۷- هدف از انعقاد پیمان جوانمردان (حلف‌الفضول) که قبل از ظهور اسلام در مکه شکل گرفت، در کدام گزینه بیان شده است؟

(۱) یاری افراد ستم‌دیده و ستاندن حق آن‌ها از ستمکاران

(۲) حمایت از بردگان و گرفتن حق آن‌ها از اشراف برده‌دار

(۳) مبارزه با رسم جاهلی زنده به گور کردن دختران

(۴) برقراری امنیت در مسیرهای تجاری منتهی به مکه

۱۸۸- کدام مورد دلیل اعزام سپاه سه هزار نفری به فرماندهی جعفر بن ابیطالب به سوی موته در شام، به‌وسیله پیامبر اسلام (ص) بود؟

(۱) واکنش به تحریکات نظامی رومیان در مرزها

(۲) پاسخ به حمله قبایل بت‌پرست ساکن شام به مسلمانان

(۳) حمایت حاکم شام از یهودیان خیبر برای نبرد با مسلمانان

(۴) کشته شدن سفیر پیامبر (ص) به‌وسیله حاکم بصره

۱۸۹- رسول خدا (ص) با اشاره به آیه ۷ سوره بینه، مصداق «خیر البریه» را چه کسانی معرفی کرد؟

(۱) انصار (۲) مهاجرین

(۳) مجاهدان در غزوه بدر (۴) امام علی (ع) و شیعیان او

۱۹۰- نرمش قهرمانانه به کدام واقعه در تاریخ اسلام اشاره دارد؟

(۱) مدارای امام علی (ع) با بقایای خوارج نهروان (۲) بیست و پنج سال خانه‌نشینی امام علی (ع)

(۳) صلح پیامبر (ص) با مشرکان در حدیبیه (۴) صلح امام حسن (ع) با معاویه

۱۹۱- جریان فتوحات اسلامی با فتح لیبی و انجزایر، در دوره کدام خلیفه اموی از سر گرفته شد؟

(۱) ولید بن عبدالملک (۲) یزید بن عبدالملک

(۳) هشام بن عبدالملک (۴) عبدالملک بن مروان

۱۹۲- کدام فرد با نوشتن نامه به عمر بن زین‌العابدین از پیشوایان علوی، وی را به پذیرش خلافت دعوت کرد؟

(۱) ابوسلمه خلیل (۲) ابومسلم خراسانی

(۳) ابراهیم امام رهبر عباسیان (۴) سفاح اولین خلیفه عباسی

۱۹۳- کدام مورد درباره چگونگی شکل‌گیری و عقاید فرقه واقفیه درست است؟

(۱) بنیانگذاران آن عضو شبکه وکالت بودند و حمایت‌های عباسیان عامل اصلی شکل‌گیری این فرقه بود.

(۲) از درون شبکه وکالت سر برآورد و مسائل اقتصادی در شکل‌گیری آن نقش مهمی داشت.

(۳) منکر شهادت امام جعفر صادق (ع) بودند و عبدالله افطح را نایب ایشان می‌دانستند.

(۴) معتقد به امامت عبدالله افطح و از مخالفان گسترش شبکه وکالت بودند.

۱۹۴- ابوالادیان از یاران امام حسن عسکری (ع) چه نقش و جایگاهی در ارتباط با شیعیان داشت؟

(۱) نامه‌ها و پیام‌های امام (ع) را به یاران ایشان می‌رساند و سؤالات شیعیان را به نزد آن حضرت می‌برد.

(۲) امام (ع) در پاسخ به نامه اهالی آبه، ضمن ستایش از ابوالادیان، وی را به‌عنوان وکیل آنجا برگزیده.

(۳) امام (ع) در نامه‌ای، وی را به‌عنوان وکیل منطقه نیشابور معرفی و وظایف و اختیاراتش را مشخص کرده.

(۴) یکی از اعضای سرشناس شبکه وکالت بود و در ردوبدل کردن مکاتبات امام (ع) و شیعیان نقش اساسی داشت.



۱۹۵- کدام یک از نایبان خاص امام زمان (عج) طولانی ترین دوران نیابت را داشت؟

(۱) علی بن محمد سمّری

(۲) عثمان بن سعید عمّری

(۳) ابوالقاسم حسین بن روح نوبختی

(۴) محمد بن عثمان بن سعید عمّری

۱۹۶- کدام گونه از منابع تاریخی از ظهور اسلام تا پایان دوره صفوی، به طور خاص اطلاعات سودمندی را درباره نهاد های

اقتصادی و فرهنگی ارائه می دهند؟

(۱) متون ادبی

(۲) تاریخ های عمومی

(۳) تاریخ های سلسله ای

(۴) سیاست نامه ها و اندرز نامه ها

۱۹۷- کدام گزینه درباره شیوه زمین داری اقطاع در تاریخ ایران دوره اسلامی درست است؟

(۱) قبل از روی کار آمدن سلجوقیان در دوره حکومت آل بویه رواج داشت.

(۲) نظام الملک با هدف آباد کردن اراضی پایر و بلا استفاده، آن را به وجود آورد.

(۳) سلجوقیان به منظور گسترش سنت وقف آن را رواج دادند.

(۴) اقطاع به واگذاری اراضی وقفی به افراد نظامی یا صاحبان مشاغل دیوانی اشاره داشت.

۱۹۸- در تاریخ شعر و ادب فارسی، منظور از «سبک اصفهانی» کدام است؟

(۱) رجوع شاعران عصر صفوی به سبک خراسانی و تقلید از شاعران این سبک است.

(۲) نهضتی است که در اواخر دوره صفوی و دوره افشاریه در شهر اصفهان شکل گرفت.

(۳) سبک شاعرانی چون محتشم و صائب تبریزی است و مضامین شیعی و ویژگی خاص آن است.

(۴) تحولی است که در دوره زندیه اتفاق افتاد و از آن با عنوان نهضت بازگشت ادبی یاد می شود.

۱۹۹- پس از قتل قائم مقام فراهانی در دوره محمدشاه قاجار، چه کسی به صدارت رسید؟

(۱) حاجی میرزا آقاسی

(۲) میرزا آقاخان نوری

(۳) الهیارخان آصف الدوله

(۴) میرزا یوسف مستوفی الممالک

۲۰۰- رضاشاه پس از مسافرت به ترکیه و آشنایی با آتاتورک رئیس جمهور آن کشور، کدام روش را در پیش گرفت؟

(۱) به حذف شخصیت های آزادی خواه و مستقل پرداخت.

(۲) از دخالت روحانیون در مسائل سیاسی جلوگیری کرد.

(۳) به نام تمدن و تجدد به یک شکل کردن لباس ها اقدام کرد.

(۴) به مبارزه با همه سنت های اسلامی پرداخت.

۲۰۱- متن زیر، به کدام یک از «سوالات کلیدی دانش جغرافیا» به ترتیب پاسخ می‌دهد؟  
 «تداوم خشکسالی در سال‌های اخیر، موجب پدید آمدن بحران ریزگردها در کشورهای جنوب غربی آسیا، در فصل‌های مختلف سال شده است.»

- (۱) چرا - چه چیز - چه موقع - کجا  
 (۲) چرا - چه چیز - کجا - چه موقع  
 (۳) چه چیز - چرا - کجا - چه موقع  
 (۴) چه چیز - چرا - چه موقع - کجا

۲۰۲- در کدام گزینه، «ویژگی کوه‌های زاگرس» به درستی بیان شده است؟

- (۱) به شکل منظم و موازی با جهت شمالی و جنوبی امتداد پیدا کرده است.  
 (۲) از برخورد دو صفحه شبه جزیره عربستان و اوراسیا به وجود آمده است.  
 (۳) فرسایش به وسیله آب‌های جاری، سبب تغییر شکل آن شده است.  
 (۴) شیب عمومی این کوه‌ها در بخش غربی آن بیشتر است.

۲۰۳- چرا در کشور ما، رودهای مناطق نسبتاً خشک، بیشتر «طغیانی» هستند؟

- (۱) فرسایش رودخانه‌ای به کندی انجام می‌شود.  
 (۲) از کانون‌های آبگیر موقتی سرچشمه می‌گیرند.  
 (۳) آبدهی رودها در سال‌های مختلف متفاوت است.  
 (۴) با ریزش باران و برف، حجم آب رودها افزایش می‌یابد.

۲۰۴- کدام مورد، با مزیت‌های «کشت گلخانه‌ای» مغایرت دارد؟

- (۱) کاهش مصرف آب  
 (۲) تولید محصولات ویژه استانی  
 (۳) کنترل بهتر وضعیت کشت  
 (۴) تولید در طول سال و همه جا

۲۰۵- همه جمله‌ها، مفهوم درستی از تصویر روبه‌رو را بیان می‌کنند؛ به جز:

- (۱) براساس طرز تفکر جغرافی‌دانان، نواحی مختلفی در سطح زمین به وجود آمده است.  
 (۲) جغرافی‌دانان با استفاده از یک یا چند معیار، سطح زمین را ناحیه‌بندی می‌کنند.  
 (۳) همگونی عناصر طبیعی و انسانی در کانون ناحیه، دیده می‌شود.  
 (۴) با گذشت زمان ممکن است وسعت نواحی تغییر کند.



۲۰۶- تصویر زیر که معرف «طراحی و مدیریت شهری» در کشور ژاپن است، با کدام عبارت قرابت بیشتری دارد؟



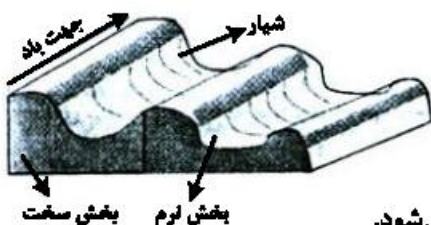
- (۱) نواحی، با یکدیگر رابطه و کنش متقابل دارند.  
 (۲) نواحی، به فعالیت‌های انسان‌ها شکل می‌دهند.  
 (۳) در سطح زمین، انسان‌ها نواحی مختلفی را به وجود آورده‌اند.  
 (۴) نواحی، تحت تأثیر تصمیم‌گیری‌های سیاسی حکومت‌ها هستند.

۲۰۷- چرا با ورود توده هوای سرد قطبی به کشور ما، میزان بارش در سواحل دریای خزر، افزایش پیدا می‌کند؟

- (۱) دمای هوا کاهش می‌یابد و نمی‌تواند رطوبت را در خود نگه دارد.  
 (۲) توده هوای سرد، تا ارتفاع معینی بالا می‌رود و به نقطه اشباع می‌رسد.  
 (۳) توده هوا در امتداد کوه‌های شمالی ایران بالا می‌رود و دمای آن کاهش می‌یابد.  
 (۴) در مرز میان دو توده هوای (سرد و خشک) و (سرد و مرطوب)، منطقه ناپایدار به وجود می‌آید.

۲۰۸- کدام عبارت، با تصویر روبه‌رو، مطابقت بیشتری دارد؟

- (۱) در مناطق خشک و به دلیل فرسایش بادی به وجود می‌آید.  
 (۲) با وزش باد، بخش نرم، تسطیح و بخش سخت، تخریب می‌شود.  
 (۳) حاصل کنده شدن ذرات از یک مکان و انتقال به مکان دیگر است.  
 (۴) به شکل شیارهای موازی و با دامنه‌های پرشیب در رسوبات نرم تشکیل می‌شود.



۲۰۹- کدام عبارت، از دلایل اهمیت «فعالیت‌های اقتصادی نوع اول» است؟

- ۱) از گذشته‌های بسیار دور، در شکل‌گیری اولین سکونتگاه‌ها نقش داشته است.
- ۲) با استخراج و به‌دست آوردن مواد خام یا محصول از زمین یا دریا، سروکار دارد.
- ۳) در تأمین غذا که از برنامه‌های مهم هر کشوری است، نقش دارد.
- ۴) فرایندی است که نیازمندی‌های بشر امروز را، برطرف می‌سازد.

۲۱۰- در چه صورتی، امکان «ادامه حیات» برای کشورهای مشخص شده در تصویر زیر، فراهم می‌شود؟



- ۱) تقویت منابع انرژی و معدنی کشور
- ۲) استفاده از قدرت در اداره سرزمین
- ۳) توسعه قلمرو و فضای سرزمینی
- ۴) حفظ عنصر بنیادین کشور

۲۱۱- تمام عبارات، مفهوم نادرستی از «متروپل» را بیان می‌کنند؛ به جز:

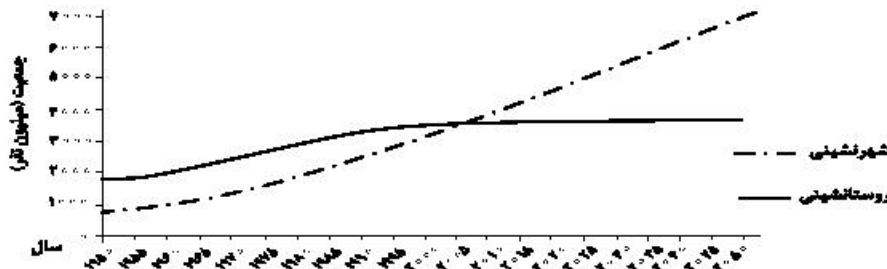
- ۱) از نظر جریان کالا، خدمات و رفت و آمد افراد، با محدوده جغرافیایی پیرامون خود ارتباط دارد.
- ۲) براساس رتبه‌بندی سکونتگاه‌ها، در ردیف‌های میانی هرم قرار دارد و خدمات متنوعی ارائه می‌کند.
- ۳) ساکنین آن مسافت زیادی را برای دریافت خدمات طی می‌کنند، به همین دلیل فاقد آستانه نفوذ است.
- ۴) بزرگ‌ترین و مهم‌ترین شهر در یک کشور است که پایتخت نامیده می‌شود و بر سایر سکونتگاه‌ها برتری دارد.

۲۱۲- کدام گزینه، دلیل مناسبی برای جمله زیر است؟

«بین درآمد شهرنشینان و روستانشینان شکاف و نابرابری زیادی وجود دارد.»

- ۱) در بسیاری از نواحی روستایی جهان، میزان فقر بیشتر از نواحی شهری است.
- ۲) در بسیاری از کشورها، بیشترین سرمایه‌گذاری‌ها به شهرها اختصاص دارد.
- ۳) ایجاد فرصت‌های شغلی در نواحی شهری از مناطق روستایی بیشتر است.
- ۴) زندگی روستاییان عمدتاً به درآمد حاصل از کشاورزی وابسته است.

۲۱۳- با توجه به نمودار زیر، در کدام گزینه راهکار مناسب در «کنترل حرکت به سوی جهانی در حال شهری شدن» به‌دراستی بیان شده است؟



- ۱) تدوین برنامه‌های عمومی و آمایش در مقیاس ملی
- ۲) اجرای سیاست‌های کلی اقتصادی و اجتماعی در مقیاس ملی
- ۳) طراحی برنامه توسعه روستایی به‌منظور دسترسی به خدمات اجتماعی
- ۴) برنامه‌ریزی و مدیریت شهر و روستا براساس همکاری و مشارکت مردم

۲۱۴- کدام عبارت، مفهوم نادرستی را منتقل می‌کند؟

- الف) در شهرهای ساحلی، تجارت بین‌المللی، با حمل‌ونقل دریایی امکان‌پذیر می‌شود.
- ب) هزینه احداث خط‌آهن و توسعه حمل‌ونقل ریلی، به‌صورت متوسط ارزیابی می‌شود.
- ج) احتمال فرسایش خاک با توسعه خطوط آهن افزایش می‌یابد.
- د) هرچه طول مسیرهای ارتباطی، کوتاه‌تر باشد، دسترسی مطلوب‌تر می‌شود.

۱) الف و ب      ۲) الف و د      ۳) ب و ج      ۴) ج و د

۲۱۵- کدام عبارت، با «علت وقوع زمین لرزه» مغایرت دارد؟

- ۱) جابه‌جایی صفحه‌ای در امتداد خطوط گسل
- ۲) حرکت همرفتی مواد در گوشته فوقانی زمین
- ۳) تشکیل لیتو سفر زمین از واحدهایی به نام پلیت
- ۴) شکستگی ناگهانی سنگ‌های پوسته زمین در امتداد گسل‌ها

- ۲۱۶- کدام یک، روند شکل‌گیری نظام اجتماعی خرد و کلان را به‌درستی نمایان می‌کند؟  
 (۱) نهاد اجتماعی ← پیدایش هنجارها و ارزش‌ها ← تحقق انتظارات و توقعات ← شکل‌گیری نقش‌های اجتماعی ← نظام اجتماعی خرد و کلان  
 (۲) تحقق هنجارها و ارزش‌ها ← تعیین انتظارات و توقعات ← ایجاد نقش‌های اجتماعی ← کنش‌های اجتماعی متقابل ← نظام اجتماعی خرد و کلان  
 (۳) ایجاد نقش‌های اجتماعی ← تحقق هنجارها و ارزش‌ها ← تعیین انتظارات و توقعات ← کنش‌های اجتماعی متقابل ← نظام اجتماعی خرد و کلان  
 (۴) شکل‌گیری انتظارات و توقعات ← تحقق هنجارها و ارزش‌ها ← تشکیل نقش‌های اجتماعی ← کنش‌های اجتماعی متقابل ← نظام اجتماعی خرد و کلان
- ۲۱۷- این تعاریف از موضوع جامعه‌شناسی، به‌ترتیب، متعلق به کدام نوع جامعه‌شناسی است؟  
 «کنش‌های اجتماعی انسان»، «توجه به کنش‌های انسانی و نقش اراده و آگاهی در آن» و «جامعه و پدیده‌های اجتماعی»  
 (۱) انتقادی - پوزیتیویستی - تفهیمی  
 (۲) تفهیمی - انتقادی - پوزیتیویستی  
 (۳) تفهیمی - پوزیتیویستی - انتقادی  
 (۴) پوزیتیویستی - تفهیمی - انتقادی
- ۲۱۸- به‌ترتیب در مبحث شناخت‌ها، هر یک از عبارات زیر با کدام مطلب ارتباط دارند؟  
 - مانند هوا برای زندگی انسان ضروری است.  
 - برخی فرهنگ‌ها آن را غیرعلمی می‌دانند.  
 - منبع آن عالم طبیعت است.
- (۱) با استفاده از اندوخته معرفتی جامعه حاصل می‌شود - از انواع شناخت علمی است - ابزار آن، عقل انسان است.  
 (۲) شناخت امور جزئی است - ابزار این شناخت دل و قلب آدمی است - با پرسش از شناخت عمومی، شناخت حسی نسبت به جهان اجتماعی آغاز می‌شود.  
 (۳) برای کشف واقعیت و شناخت درست و نادرست بودن امور و پدیده‌ها است - مشاهده و استدلال هم از روش‌های این شناخت است - اغلب به صورت ناخودآگاه حاصل می‌شود.  
 (۴) بیشتر برای استفاده عملی و زندگی در جهان اجتماعی است - انسان از درون خود بدون استفاده از ابزارهای حسی و عقلی بسیاری از امور محسوس و غیرمحسوس را می‌شناسد - شناخت امور جزئی است.
- ۲۱۹- کدام عبارت، توانمندی علوم اجتماعی عقلی را بیان می‌کند؟  
 (۱) قدرت داوروری ارزشی و برخورد انتقادی نسبت به جوامع مختلف را دارد و عقل نظری را به شناخت عمومی تنزل می‌دهد.  
 (۲) با کمک حس و با استفاده از عقل تجربی و شناخت عمومی، دانش ابزاری لازم برای تدبیر پدیده‌های اجتماعی فراهم می‌آورد.  
 (۳) از معنای عام عقل به‌عنوان ابزار شناخت امور کلی و غیرطبیعی و حسی و تجربی استفاده می‌کند و بر این اساس سعادت آدمی را شناسایی می‌کند.  
 (۴) با استفاده از عقل عملی می‌تواند به شناخت ابعاد معنوی انسان و جهان بپردازد و ارزش‌ها و احکامی را که برای رسیدن به آرمان‌های انسانی نیاز است، بشناسد.
- ۲۲۰- به‌ترتیب هر یک از موارد زیر با چه موضوعی ارتباط دارند؟  
 - جست‌وجوی واقعیت‌های انسانی و اجتماعی از گذشته دورتر، براساس آثار و بقایای انسانی  
 - عدم امکان شکل‌گیری زندگی اجتماعی  
 - حکومت اقلیت بر مبنای حقیقت و فضیلت  
 - شناسایی قوانین کلی موجودات
- (۱) مردم‌شناسی - گسستگی نظام فرهنگی - موناشری - حکمت  
 (۲) تاریخ - فقدان کنش‌های اجتماعی - الیگارشی - علوم طبیعی  
 (۳) باستان‌شناسی - شرایط جغرافیایی نامناسب - آریستوکراسی - فلسفه  
 (۴) باستان‌شناسی - عدم شکل‌گیری نهادهای اجتماعی - پولیتی - علوم انسانی



۲۲۱- به ترتیب، عامل پدید آمدن هر یک از موارد زیر چیست؟

- محافظه کارانه تلقی شدن جامعه‌شناسی تفهیمی و پوزیتیویستی از دیدگاه جامعه‌شناسی انتقادی
- اهمیت بیشتر علوم انسانی نسبت به علوم طبیعی
- نظریات متفاوت دربارهٔ هویت افراد

- ۱) دنبال کردن داوری‌های ارزشی با روش‌های حسی و تجربی - استفاده درست از علوم انسانی - متغیر بودن بسیاری از خصوصیات هویتی انسان
- ۲) عدم ظرفیت داوری دربارهٔ ارزش‌ها و هنجارها - قرار گرفتن علوم انسانی در مسیر ارزش‌ها و فضیلت‌ها - پنهان بودن بخش‌هایی از هویت انسان
- ۳) محدود شدن به فهم معانی کنش‌ها و همراهی و همدلی با کنشگران - گسترش علوم طبیعی با استفاده از علوم انسانی - غفلت و فراموشی انسان‌ها از هویت حقیقی خود
- ۴) ناتوانی در داوری نسبت به ارزش‌ها و هنجارهای اجتماعی و تن دادن به شرایط موجود - نشان دادن راه استفاده از طبیعت توسط علوم انسانی - وجود خطا و اشتباه در شناخت هویت

۲۲۲- هر یک از موارد زیر مصداق چیست؟

- نحوه ارتباطات

- گل زدن ماشین

- تابلوی پارک ممنوع

- قواعد نظام اداری

- ۱) فرهنگ - رفتار نمادین - فرصت اجتماعی - پدیدهٔ اعتباری
- ۲) کنش اجتماعی - هنجار اجتماعی - پدیدهٔ اجتماعی - کنش نمادین
- ۳) پدیدهٔ اعتباری - قواعد اجتماعی - محدودیت اجتماعی - پدیدهٔ تکوینی
- ۴) هنجار اجتماعی - پدیدهٔ اعتباری - کنترل اجتماعی - محدودیت اجتماعی

۲۲۳- این موارد عملکرد و رویکرد چه کسانی و چه گروه‌هایی بود؟

- استفاده از سازمان‌های ماسونی به‌عنوان ابزار آموزشی - سیاسی
- انکار حقیقت جهان

- تأمین نیازهای مادی با استفاده از قدرت‌های فوق طبیعی

- ۱) دولت‌های غربی - سوفسطائیان - انسان اساطیری
- ۲) سرمایه‌داران نوپای غربی - فلاسفه یونان - انسان دینی
- ۳) یهودیان زراندوز غربی - فلاسفه روشنگری - انسان اسطوره‌ای
- ۴) رجال سیاسی دولت‌های غربی - انسان اساطیری - جامعهٔ معنوی

۲۲۴- علت پیدایش هر یک از موارد زیر چیست؟

- کهولت و مرگ جهان اجتماعی

- فرصت ظهور پادشاهان و قدرت‌های محلی به‌عنوان رقیبان دنیاطلب در دوران رنسانس

- انتقال برخی صنایع وابسته به کشورهای استعمارزده

- ۱) از دست دادن اعتبار اجتماعی یک فرهنگ - فتح قسطنطنیه - کاهش قدرت چانه‌زنی
- ۲) فراتر رفتن تغییرات اجتماعی از محدودهٔ تغییرات درون فرهنگ - جنگ‌های صلیبی - تک محصولی شدن
- ۳) مواجه شدن فرهنگ با کاستی‌ها و بن‌بست‌های درونی - فروریختن اقتدار کلیسا - اقتضای بازار مصرف
- ۴) بازماندن فرهنگ از پاسخگویی به نیازهای طبیعی و معنوی انسان‌ها - انکار دخالت دین در امور دنیوی - تداوم انتقال ثروت به کشورهای غربی

۲۲۵- این مفاهیم با چه موضوعات و زمان‌هایی ارتباط دارند؟

- بحران معنویت در فرهنگ غرب

- بازگشت از موضع فعالیت رقابت‌آمیز به مقاومت منفی

- تغییر احترام و منزلت اجتماعی

- ۱) دنیسم - موضع‌گیری علیه پذیرش قراردادهای استعماری - تأثیر جهان اجتماعی بر شکل‌گیری هویت
- ۲) افول سکولاریسم - عملکرد منورالفکران غرب‌زده با اوج‌گیری جنبش عدالتخانه - تأثیر جامعه بر هویت
- ۳) قرن بیستم - عملکرد رهبران دینی بعد از شکست در مشروطه - تأثیر فرد بر هویت
- ۴) قرن ۱۸ و ۱۹ - موضع عالمان شیعی در قبال دولت قاجار - نقش خودآگاهی



۲۲۶- درست و غلط بودن عبارات‌های زیر را تعیین کنید؟

- هویت اجتماعی افراد، پدیده‌ای گسترده‌تر از هویت فرهنگی جهان اجتماعی است.  
- تقابل شرق و غرب، تقابلی جهانی است و در صورتی که چالش‌های مربوط به آن فعال شود بسیاری از چالش‌های درونی کشورهای غربی دیگر بار فعال خواهند شد.

- اگر یک جامعه فرهنگ تاریخی خود را فراموش کند به از خودبیگانگی فرهنگی گرفتار می‌شود.

- مراد منورالفکران از مشروطه، نوعی حاکمیت سکولار نظیر حاکمیت دولت فرانسه بود.

(۱) غ - غ - د - غ (۲) د - غ - د - غ (۳) د - غ - د - د (۴) غ - د - د - د - غ

۲۲۷- به ترتیب، این موارد ویژگی کدام جهان‌ها و فرهنگ‌ها است؟

- برای تصرف طبیعت از نیروهای معنوی نیز استفاده می‌کردند.

- در برابر جهان عینی قرار دارد.

- جهان دیگر در محدوده منافی که برای خواسته‌های این جهانی بشر دارد، پذیرفته می‌شود.

- برای تداوم حیات خود ارزش‌ها و هنجارهای زندگی مناسب با خود را به فرد آموزش می‌دهد.

(۱) جهان سوم - اجتماعی - غیردینی - فرهنگی (۲) اساطیری - تکوینی - متجدد - توحیدی

(۳) قرون وسطی - طبیعت - اساطیری - سکولار (۴) پیش از مدرن - انسانی - سکولار - اجتماعی

۲۲۸- هر یک از مصداق‌های زیر، مربوط به کدام فرهنگ است؟

- پیدایش فلسفه روسو

- مخالفت آنا با پتیست‌ها با جریان‌ات دنیاگرایانه

- جست‌وجوی سنت‌های دینی توسط نخبگان جهان غرب

- حکومت امان‌... خان در افغانستان

(۱) سکولار - قرون وسطی - مدرن - غرب (۲) غرب جدید - رنسانس - پسامدرن - سکولار

(۳) پسامدرن - رنسانس - غرب جدید - مدرن (۴) مدرن - اساطیری - پساسکولار - دنیاگرایی

۲۲۹- پاسخ دهید:

- مسلمانان آسیای جنوب شرقی از چه طریق به اسلام روی آوردند؟

- خالی شدن مناطقی نظیر کوبا، نیکاراگوئه و ... نتیجه چه بود؟

- حذف پوشش دینی در دوره رنسانس به چه چیزی منجر شد؟

(۱) روابط تجاری - اقدام اروپائیان برای تأمین سلطه خود بر آمریکا و جزایر اقیانوس‌ها - بازگشت به تفسیر غیرتوحیدی فرهنگ یونان و روم باستان

(۲) تعاملات فرهنگی - نسل‌کشی و از بین بردن ساکنان بومی - آمیختن با فرهنگ اساطیری

(۳) هجوم نظامی - اشغال سرزمین‌های آن‌ها توسط سفیدپوستان - خروج از سلطه کلیسا

(۴) روابط سیاسی - بزرگ‌ترین برده‌داری تاریخ - بسط ابعاد دنیوی و این جهانی خود

۲۳۰- کدام‌یک، در رابطه با ویژگی‌های دولت - ملت‌ها در نظام جهانی جدید، درست است؟

(۱) خود را با هویت دینی و معنوی نمی‌شناختند و کاملاً سکولار بودند - هویت آن‌ها اغلب ناسیونالیستی بود - نخستین بار در اروپای غربی با افول قدرت کلیسا پدید آمدند.

(۲) هویتی که برای مناطق جغرافیایی جدید ساخته می‌شد غیرقومی و سکولار بود - در مسیر توسعه خود به صورت قدرت‌های اقتصادی درآمدند - هویتی معنوی برای خود قایل نبودند.

(۳) در مسیر توسعه خود به صورت قدرت‌های استعماری درآمدند - هویت آن‌ها لیبرالیستی بود و هویتی دینی برای خود قایل نبودند - با تبلیغ مسیحیت بر نخبگان سیاسی کشورهای دیگر تأثیر می‌گذاشتند.

(۴) جغرافیای سیاسی جدیدی را در مناطق حضور خود برای دیگر فرهنگ‌ها پدید آوردند - حاکمیت‌های نظامی، اقتصادی بودند و هویتی قوم‌گرایانه داشتند - نخستین بار در اروپای غربی با رونق کلیسا پدید آمدند.

۲۳۱- به ترتیب «پرداختن به حل چالش‌های جامعه خود در چارچوب بنیان‌های نظری فرهنگ غرب»، «خودباختگی فرهنگی

به‌عنوان مشکل کشورهای فقیر» و «فرهنگ اسلامی را بزرگ‌ترین تهدید غرب دانستن»، با چه موضوعی از تباط دارند؟

(۱) مبنای معرفت‌شناسی روشنگری - روشنفکران چپ - از تفکرات بیدارگران اسلامی

(۲) رویکرد نظری مارکس نسبت به عالم - استعمارگر و استعمارزده - نظریه هانتینگتون

(۳) دیدگاه نظری هانتینگتون - مرکز، پیرامون - از عوامل وقوع جنگ از نظر کنت

(۴) نگرش ماکس وبر نسبت به جهان متجدد - بهار عربی - نظریه جنگ تمدن‌ها

۲۳۲- عبارت درست در رابطه با جنگ‌ها و تقابل‌های جهانی کدام است؟

(۱) طرف‌های درگیر دو جنگ جهانی، در قالب اندیشه‌های امپریالیستی، مارکسیستی و لیبرالیستی رفتار خود را توجیه

می‌کردند - بعد از جنگ جهانی دوم صلحی پایدار برقرار شد - از مهم‌ترین عوامل وقوع این دو جنگ، رقابت کشورهای

اروپایی بر سر مناطق استعماری بود.

(۲) از مهم‌ترین عوامل وقوع دو جنگ جهانی، رقابت کشورهای اروپایی بر سر مناطق استعماری بود - هانتینگتون شکاف

میان حوزه‌های تمدنی و فرهنگی را منشا درگیری‌های آینده می‌پنداشت - در جنگ جهانی اول، برای نخستین بار از

بمب اتم استفاده شد.

(۳) بعد از جنگ جهانی دوم صلحی پایدار برقرار نشد - تداوم جنگ سرد، بازار بخش وسیعی از اقتصاد کشورهای

پیرامونی را گرم می‌کرد - دو جنگ جهانی با درگیری کشورهای اروپایی آغاز شد.

(۴) هیچ‌یک از دو جنگ جهانی اول و دوم پوشش مذهبی و دینی به خود نگرفت - از مهم‌ترین عوامل وقوع دو جنگ

جهانی رقابت کشورهای اروپایی بر سر مناطق استعماری بود - زمینه‌های فرهنگی این دو جنگ ریشه در فرهنگ

غرب داشت.

۲۳۳- روند فروپاشی حکومت‌ها به‌واسطه بحران اقتصادی و چالش‌های مرتبط با آن چگونه است؟

(۱) آسیب‌های مربوط به فقر و غنا - پیوند بحران اقتصادی با فقر و غنا - سرایت بحران به ابعاد فرهنگی - درگیر

شدن قشر فقیر جامعه - فروپاشی نظام سیاسی

(۲) استفاده سرمایه‌داران از ابزارهای موجود - آسیب قشر ضعیف و فقیر جامعه - عدم کنترل بحران اقتصادی -

انتقال بحران به ابعاد فرهنگی - فروپاشی نظام سیاسی

(۳) آسیب‌های مربوط به بحران اقتصادی - درگیر شدن مجموعه نظام اجتماعی - استفاده سرمایه‌داران از ابزارهای

موجود - انتقال فشار به تولیدکنندگان خرد - عدم کنترل بحران و فروپاشی نظام سیاسی

(۴) تأثیرپذیری عوامل داخلی از بحران اقتصادی - آسیب‌پذیری قشر ضعیف جامعه - انتقال فشار به سرمایه‌داران -

استفاده سرمایه‌داران از ابزارهای موجود - عدم کنترل بحران و فروپاشی نظام سیاسی

۲۳۴- به ترتیب، هر یک از این موارد، نتیجه کدام بحران و چالش است؟

- شکل‌گیری جریان‌های پست مدرن

- تأمین رفاه کارگران و اقشار ضعیف جوامع غربی

- به‌سخره گرفتن فیلسوفان مدافع نوانخانه‌ها توسط دیکنز

(۱) علمی - فقر و غنا - سیاسی

(۲) هویتی - شمال و جنوب - معرفتی

(۳) معرفتی علمی - مرکز، پیرامون - فقر و غنا

(۴) معنوی - استعمارگر و استعمارزده - اقتصادی

۲۳۵- این موارد، از چه طریقی محقق می‌شوند؟

- تغییر ساختار سیاسی

- از بین بردن آزادی افراد

- پایان مبارزات عقیدتی سیاسی بشر از نظر فوکویاما

(۱) عملکرد بیدارگران اسلامی - گسترش سرمایه‌داری - جنگ تمدن‌ها

(۲) مقاومت منفی - نظام‌های سلطه‌گر - شکل‌گیری قطب‌بندی جدید فرهنگی تمدنی

(۳) جنبش‌های آزادی‌بخش - امپریالیسم سیاسی - پایان هراس جامعه جهانی نسبت به بلوک شرق

(۴) انقلاب اجتماعی - تحقق جوامع سوسیالیستی - فروپاشی بلوک شرق و غلبه نظام لیبرال دمکراسی غرب

۲۳۶- کدام عبارت درست است؟

- (۱) در تعریف، به کمک تصورات مجهول به تصور معلوم دست می‌یابیم.
- (۲) استفاده از منطق، در همه علوم و فعالیت‌های ذهنی بشر گریزناپذیر است.
- (۳) برخی از دانش‌ها مانند ریاضیات، ابزار منطق‌اند و به دقت ذهنی کمک می‌کنند.
- (۴) در تصور ما از یک درخت واقعی، یکی از ویژگی‌های مفهوم، «وجود داشتن» است.

۲۳۷- به ترتیب، عیب تعریف‌های زیر چیست؟

- جسم نامی: موجودی که دارای حواس است.
- متافیزیک: دانشی که روش آن استدلالی است.

- (۱) جامع نیست - مانع نیست.
- (۲) مصادره به مطلوب است - مانع نیست.
- (۳) نه جامع است و نه مانع - مانع نیست.
- (۴) جامع نیست - نه جامع است و نه مانع

۲۳۸- میان مفاهیم به کار رفته در عبارات زیر، کدام یک از نسبت‌های چهارگانه را می‌توان برقرار کرد؟

- (۱) فقط عموم و خصوص من وجه
- (۲) عموم و خصوص من وجه و تساوی
- (۳) عموم و خصوص مطلق و عموم و خصوص من وجه
- (۴) عموم و خصوص من وجه و تباین

۲۳۹- کدام قضیه شخصییه است؟

- (۱) شیری خرگوشی را درید.
- (۲) شیر با شیر متفاوت است.
- (۳) شیر این جنگل قدرتمند است.
- (۴) شیر برعکس ریش می‌شود.

۲۴۰- اگر قضیه «این مقدار پیوسته یا مثلث است یا غیرشکل» درست باشد، کدام عبارت درست است؟

- (۱) هیچ غیرمثلثی شکل نیست.
- (۲) بعضی مثلث‌ها غیرشکل هستند.
- (۳) بعضی غیرشکل‌ها مثلث هستند.
- (۴) بعضی غیرشکل‌ها مثلث نیستند.

۲۴۱- محتوای کدام گزینه درست است؟

- (۱) اگر قضیه «هیچ کتابی ارزان نیست» نادرست باشد، می‌توان نتیجه گرفت که «هر کتابی ارزان است».
- (۲) اگر قضیه «هیچ موجودی مجرد نیست» نادرست باشد، می‌توان قطعاً گفت که «بعضی موجودات مجرد نیستند».
- (۳) اگر بپذیریم که «همه نمرات این دانش‌آموز بیست است»، باید پذیرفت که «بعضی نمرات این دانش‌آموز بیست است».
- (۴) اگر بدانیم که «بعضی پروازکنندگان پرنده نیستند»، می‌توان قطعاً گفت که «بعضی پرنندگان پروازکننده نیستند».

۲۴۲- کدام یک از قیاس‌های زیر معتبر است؟

- (۱) بعضی ج د نیست. هر د الف است ← بعضی ج الف نیست.
- (۲) بعضی ج د نیست. هر ج الف است ← بعضی د الف نیست.
- (۳) بعضی ج د است. هیچ ج الف نیست ← بعضی د الف نیست.
- (۴) هر ج د است. بعضی د الف است ← بعضی ج الف است.

۲۴۳- با توجه به مقدمات داده شده، نتیجه کدام قیاس استثنایی انفصالی، قطعی است؟

- (۱) اگر قضیه «الف یا ب» منفصله حقیقی باشد:  

الف یا ب
ب
الف
- (۲) اگر قضیه «الف یا ب» منفصله مانع الجمع باشد:  

الف یا ب
غیرالف
ب
- (۳) اگر قضیه «الف یا ب» منفصله مانع الرفع باشد:  

الف یا ب
غیرالف
ب
- (۴) اگر قضیه «الف یا ب» منفصله مانع الرفع باشد:  

الف یا ب
ب
غیرالف

۲۴۴- نوع مغالطه به کار رفته در استدلال زیر، کدام است؟

قاضی: شما در تاریخ ۱۰ اسفند ۹۸، راننده کامیونی بودید که با دو میلیون ماسک از تهران به سوی جنوب حرکت می کرد؛ قبول دارید؟

متهم: آقای قاضی، من حافظه خوبی ندارم! مگر شما به خاطر دارید که ۱۰ اسفند چه غذاهایی خورده‌اید؟

(۱) رفع مقدم (۲) عدم تکرار حد وسط (۳) استقرای ناقص (۴) تمثیل ناروا

۲۴۵- کدام عبارت درست است؟

- (۱) برخی از مسائل فلسفه با روش تجربی قابل بررسی است، اما روش کلی فلسفه، روش عقلی است.
- (۲) فلسفه مانند همه دانش‌های دیگر قانونمند است و با استفاده از روشی خاص، مسائل خود را بررسی می‌کند.
- (۳) تفکر فلسفی خاص فیلسوفان نیست، بلکه از همان آغازین روزهای حیات هر انسانی خود را نشان می‌دهد.
- (۴) همه انسان‌ها به شرط دقت در افکار، تصمیمات و اعمال روزمره خود، دچار نوعی حیرت فلسفی می‌شوند.

۲۴۶- کدام عبارت توصیف درستی از حیطه‌های فلسفه ارائه می‌دهد؟

- (۱) هر شاخه فلسفه، قسمتی از فلسفه است که بنیان آن را یکی از شاخه‌های علوم می‌سازد.
- (۲) فلسفه اولی بخش اصلی فلسفه است که ریشه و شاخه‌های فلسفه را دربر می‌گیرد.
- (۳) شاخه‌های فلسفه، مسائل خاص فلسفه را وارد حیطه‌های گوناگون علوم مختلف می‌کنند.
- (۴) فلسفه اولی، پل ارتباطی میان شاخه‌های فلسفه و دانش‌های بشری است.

۲۴۷- کدام عبارت درست است؟

- (۱) فیلسوفان با مشاهده تغییرات گوناگون در موجودات، از علت هر یک سؤال می‌کنند.
- (۲) اساس دانش فلسفه، این نظر است که وجود، قواعد و احکامی دارد که در علوم قابل بررسی نیست.
- (۳) اساس بحث وحدت و کثرت در مابعدالطبیعه، دسته‌بندی موجودات به انواع گوناگون است.
- (۴) حقیقت هستی، مفهوم مشترکی است که از خصوصیات پدیده‌ها و موجودات گوناگون درک می‌شود.

۲۴۸- از نظر سقراط، کدام ادعای ملتوس در مورد او حیرت‌آورتر بود؟

- (۱) این که مدعی بود چیزهایی می‌داند که دیگران نمی‌دانند.
- (۲) این که سخنوری توانا است که دیگران را فریب می‌دهد.
- (۳) این که جوانان را گمراه کرده و از دین اجدادی‌شان باز می‌دارد.
- (۴) این که به خدیان یونانی اعتقاد ندارد و از خدایی جدید سخن می‌گوید.

۲۴۹- سقراط و تئتئوس در مورد درستی کدام قضیه توافق دارند؟

- (۱) شناسایی معتبر و ادراک حسی دو چیز مختلف هستند.
- (۲) با توجه به ناپایداری طبیعت، معیار ثابتی برای شناخت وجود ندارد.
- (۳) حقیقت برای افراد یکسان نیست و برای هر کس، همان است که به ادراک او درمی‌آید.
- (۴) ممکن است حواس ما از یک چیز، در زمان‌های مختلف، دریافت‌های متفاوت داشته باشد.

۲۵۰- کدام عبارت با نظرات ارسطو سازگار است؟

- (۱) ماده و صورت اموری نسبی هستند، یعنی نسبت به درکی که افراد از آن دارند، تفاوت می‌یابند.
- (۲) در حرکتی که سبب خارجی برای آن‌ها نمی‌بینیم، عالم طبیعت عامل حرکت است.
- (۳) تفسیر و تبیین جهان هستی، از طریق شناخت علل اولیه آن ممکن می‌گردد.
- (۴) ماده، مایه اولیه هر شیء است که مکان خاصی دارد و می‌تواند تغییر کند.



- ۲۵۱- کدام عبارت درباره «اصل واقعیت داشتن جهان» درست است؟  
 (۱) پذیرش آن بر هرگونه تحقیق علمی مقدم است.  
 (۲) واقعی یا خیالی بودن جهان را بررسی می‌کند.  
 (۳) درباره اعتبار روش تجربی در شناخت واقعیت، سخن می‌گوید.  
 (۴) از مسائلی است که بین علوم تجربی و فلسفه، مشترک است.
- ۲۵۲- کدام عبارت، اصطلاح «تسلسل علل نامتناهی» را به درستی توضیح می‌دهد؟  
 (۱) هر موجودی معلول علتی و آن علت معلول علتی دیگر باشد.  
 (۲) علل و معلول‌های مترتب برهم، منتهی به هیچ علت غیرمعلول نشوند.  
 (۳) علل و معلول‌های مترتب برهم، منتهی به هیچ معلول غیرعلتی نشوند.  
 (۴) موجودات بی‌شماری وجود داشته باشند که با یکدیگر رابطه علی دارند.
- ۲۵۳- از نظر فارابی، منشاء اصلی برپایی جامعه و مدینه، کدام است؟  
 (۱) گرایش فطری انسان به زندگی اجتماعی (۲) رسیدن به سعادت دنیا و آخرت  
 (۳) ایجاد نظم و قرار گرفتن هر کس در جای خود (۴) برقراری عدالت و توزیع عادلانه مواهب خدادادی
- ۲۵۴- کدام عبارت با دیدگاه‌های ابن سینا درباره جهان طبیعت سازگار نیست؟  
 (۱) مرتبه‌ای از مراتب وجود است که ویژگی‌های خاص خود را دارد.  
 (۲) هر بخش از آن، نشان‌دهنده جریان کلی حاکم بر آن است.  
 (۳) هر یک از انواع موجود در آن، دارای طبیعت خاصی است.  
 (۴) تحولات آن ناشی از طبیعت کلی حاکم بر آن است.
- ۲۵۵- کدام عبارت درباره اشاعره نادرست است؟  
 (۱) هدف اصلی‌شان مقابله با عقل‌گرایی بود. (۲) مکتب آنان یک جنبش فکری با مبانی دینی بود.  
 (۳) اصالت عقل را با دینداری ناسازگار می‌دانستند. (۴) هر نوع بحث در مسائل دینی را ناروا می‌شمردند.
- ۲۵۶- کدام عبارت با نظرات سهروردی سازگار است؟  
 (۱) انواع گوناگون فرشتگان مانند انوار اسپهبدی و ارباب انواع، طبقات گوناگون انوار قاهر را تشکیل می‌دهند.  
 (۲) واقعیت همه موجودات یکی است و تفاوت آن‌ها ناشی از شدت و ضعف همان واقعیت است.  
 (۳) با استفاده از قاعده امکان اشرف، می‌توان از وجود ممکن اشرف، وجود ممکن غیراشرف را نتیجه گرفت.  
 (۴) بالاتر از جهان طبیعت، زنجیره‌ای طولی از فرشتگان وجود دارد که طبیعت، تحت تدبیر آن‌ها است.
- ۲۵۷- در کدام مورد، کلام اسلامی با فلسفه شباهت دارد؟  
 (۱) روش (۲) غایت (۳) موضوع (۴) مقدمات
- ۲۵۸- در صورت پذیرش اصل اصالت وجود، توضیح کدام مسئله سخت‌تر است؟  
 (۱) اشتراک مفهوم وجود (۲) تنوع بی‌حد موجودات  
 (۳) شدت و ضعف در موجودات (۴) هماهنگی میان موجودات مختلف
- ۲۵۹- کدام عبارت با توجه به نظرات ملاصدرا درست است؟  
 (۱) حرکت نوعی تغییر تدریجی است که هویت شیء را تغییر می‌دهد.  
 (۲) دگرگونی در هر موجودی، تابع ذات و ماهیت همان موجود است.  
 (۳) هر حرکتی فقط ویژگی‌ها و صفات یک موجود را دچار تغییر می‌کند.  
 (۴) هر موجود طبیعی به‌طور تدریجی کامل می‌شود و این، حرکت در جوهر است.
- ۲۶۰- کدام مورد درباره اصل علیت درست است؟  
 (۱) همه فیلسوفان غربی آن را یک اصل تجربی می‌دانند.  
 (۲) علامه طباطبائی منشا اصلی اعتقاد به آن راه ذهن انسان می‌داند.  
 (۳) فیلسوفان مسلمان متفق بوده‌اند که یک اصل غیرتجربی است.  
 (۴) از مسائل مهم فیلسوفان مسلمان، چگونگی درک انسان از آن بوده است.

- ۲۶۱- در روش علمی، بیان دقیق و عینی هر متغیر را چه می‌نامند؟  
 (۱) فرضیه (۲) نظریه (۳) توصیف (۴) تعریف عملیاتی
- ۲۶۲- نسبت دادن عدد به ویژگی‌های اشیا و افراد را چه می‌نامند؟  
 (۱) اندازه‌گیری (۲) پژوهش (۳) توصیف (۴) آزمون
- ۲۶۳- یک پژوهشگر روان‌شناسی با استفاده از روش آزمایشی اثر رنگ محیط را بر تمرکز دانش‌آموزان بررسی کرده است. در این تحقیق، روان‌شناس، کدام مورد را انجام داده است؟  
 (۱) متغیر تمرکز را دستکاری کرده است.  
 (۲) متغیر رنگ محیط را ثابت نگه داشته است.  
 (۳) سایر متغیرهای تأثیرگذار بر تمرکز را کنترل کرده است.  
 (۴) دانش‌آموزان با تمرکز بالا را در یک گروه و دانش‌آموزان با تمرکز پایین را در گروه دیگر قرار داده است.
- ۲۶۴- کدام رفتار، جزء رفتارهای برانگیخته ناخودآگاه محسوب می‌شود؟  
 (۱) یادآوری (۲) ذخیره‌سازی (۳) لغزش کلامی (۴) توجه پراکنده
- ۲۶۵- در کدام رویکرد روان‌شناسی، علت احتمالی اختلال دوقطبی، کارکرد نامناسب فرایندهای شیمیایی مغز است؟  
 (۱) شناختی (۲) رفتاری (۳) روان‌کاوی (۴) زیست‌شناختی
- ۲۶۶- این که تغییرات در یک جنبه از رشد به تغییرات در جنبه‌های دیگر رشد بستگی دارد، مرتبط با کدام ویژگی رشد است؟  
 (۱) انعطاف‌پذیری (۲) کل‌گرا بودن فرایند رشد  
 (۳) مرحله‌ای و پیوسته بودن رشد (۴) تحت‌تأثیر شرایط تاریخی - فرهنگی قرار داشتن
- ۲۶۷- هر نوع رویارویی با محیط که باعث می‌شود فرد مطابق با تقاضاهای جدید، هر مرحله از زندگی خود را کنترل کند، چه نام دارد؟  
 (۱) اعتماد (۲) تحول (۳) بحران (۴) تعارض
- ۲۶۸- مطابق با نظریهٔ پیاژه، کودکان در چه دامنهٔ سنی تصور می‌کنند که بقیه افراد نیز دنیا را همانند آن‌ها می‌بینند؟  
 (۱) تولد تا ۲ سالگی (۲) ۲ تا ۷ سالگی (۳) ۷ تا ۱۱ سالگی (۴) ۱۱ تا ۱۹ سالگی
- ۲۶۹- کدام عبارت، در خصوص رشد اخلاقی براساس نظریه کلبوگ، درست است؟  
 (۱) در دورهٔ پیش قراردادی، استدلال اخلاقی براساس نفع شخصی است.  
 (۲) کودکان کمتر از ۷ سال از لحاظ رشد اخلاقی در مرحلهٔ قراردادی قرار دارند.  
 (۳) در دورهٔ قراردادی افراد برای جلب پاداش و اجتناب از تنبیه، رفتار اخلاقی انجام می‌دهند.  
 (۴) همهٔ نوجوانان که به رشد شناختی رسیده‌اند از لحاظ اخلاقی در دورهٔ پس قراردادی قرار دارند.
- ۲۷۰- کدام عبارت، نشانگر مفهوم «رشد» است؟  
 (۱) رفتارهایی که وابسته به آمادگی زیستی است.  
 (۲) افزایش تجربیات روان‌شناختی افراد در زندگی است.  
 (۳) پیش‌بینی تغییراتی که در طول زندگی صورت می‌گیرد.  
 (۴) تغییراتی که معلول عوامل محیطی از دورهٔ جنینی تا سالمندی است.

- ۲۷۱- کدام عبارت، در خصوص رشد جسمانی در دوره نوجوانی درست است؟  
 (۱) رشد جسمانی به تدریج صورت می گیرد.  
 (۲) اندازه و ظرفیت شش و قلب افزایش پیدا می کند.  
 (۳) تناسب اندازه بدن به سرعت و ناگهانی به ثبات می رسد.  
 (۴) یک سال قبل از افزایش قد و وزن، ماهیچه ها رشد بیشتری می کنند.
- ۲۷۲- زمانی که شی را با دست راست لمس می کنیم، اطلاعات حسی آن به نیمکره چپ منتقل می شود، این اطلاعات از چه طریقی به نیمکره راست، منتقل می شود؟  
 (۱) مخروطها (۲) تالاموس (۳) قشر خاکستری (۴) جسم پینه ای
- ۲۷۳- محرک هایی را که به صورت ارادی به آن ها توجه می کنیم، دارای کدام ویژگی هستند؟  
 (۱) نامشخص و مبهم (۲) مطابق با انتظارات (۳) تازه و تمجیب برانگیز (۴) غیر قابل اجتناب
- ۲۷۴- بازیابی اطلاعات برای پاسخگویی به کدام سؤال، نیاز به سطح هشجاری بالاتری دارد؟  
 (۱) ساعت ۲ دوشنبه هفته قبل کجا بودید؟ (۲) ایران با چند کشور مرز مشترک دارد؟  
 (۳) بلندترین قله در آفریقا چه نام دارد؟ (۴) رانندگی کردن در خیابان شلوغ چگونه است؟
- ۲۷۵- بیماری به علت تومور مغزی تحت عمل جراحی قرار گرفته است، بعد از بهبودی او به سختی می تواند حرف بزند ولی صحبت های دیگران را به راحتی می فهمد، به احتمال خیلی زیاد کدام ناحیه از مغز این بیمار، دچار آسیب شده است؟  
 (۱) پیشانی راست (۲) پیشانی چپ (۳) گیجگاهی راست (۴) گیجگاهی چپ
- ۲۷۶- در کدام موقعیت، فرد دچار تعارض می شود؟  
 (۱) با یک امر ناخوشایند روبه رو است و می تواند آن را انتخاب نکند.  
 (۲) با یک امر خوشایند روبه رو است که نمی تواند آن را انتخاب کند.  
 (۳) با دو امر خوشایند روبه رو است و می تواند هر دو را انتخاب کند.  
 (۴) با دو امر ناخوشایند روبه رو است و مجبور است یکی را انتخاب کند.
- ۲۷۷- فرد در کدام موقعیت فشار روانی از موقعیت کناره گیری می کند و دچار درماندگی می شود؟  
 (۱) دارای الگوی رفتاری «الف» باشد. (۲) نوع فشار روانی منفی باشد.  
 (۳) احساس کنترل شخصی بر آن نداشته باشد. (۴) میزان ناکامی آن فوری است.
- ۲۷۸- معرفی روش های مناسب زندگی و پیشگیری از بیماری ها بر اساس یافته ها و اصول روان شناسی از اهداف کدام شاخه علم روان شناسی است؟  
 (۱) رشد (۲) شخصیت (۳) سلامت (۴) شناختی
- ۲۷۹- فردی که همیشه از ارتفاع ترس غیر منطقی، نامعقول و غیر قابل کنترل دارد، احتمالاً به کدام اختلال مبتلا است؟  
 (۱) فوبیا (۲) هراس اجتماعی (۳) اضطراب فراگیر (۴) فشار پس سانحه ای
- ۲۸۰- کدام عبارت، در خصوص اختلالات اضطرابی، درست است؟  
 (۱) اختلال دوقطبی جزء این اختلالات است.  
 (۲) فرد مبتلا قادر به کنترل سطح اضطراب خود است.  
 (۳) واکنش عادی در برابر فشارهای روانی روزمره هستند.  
 (۴) بیش فعالی، بیمناسکی و بی قراری حرکتی از نشانه های آن است.